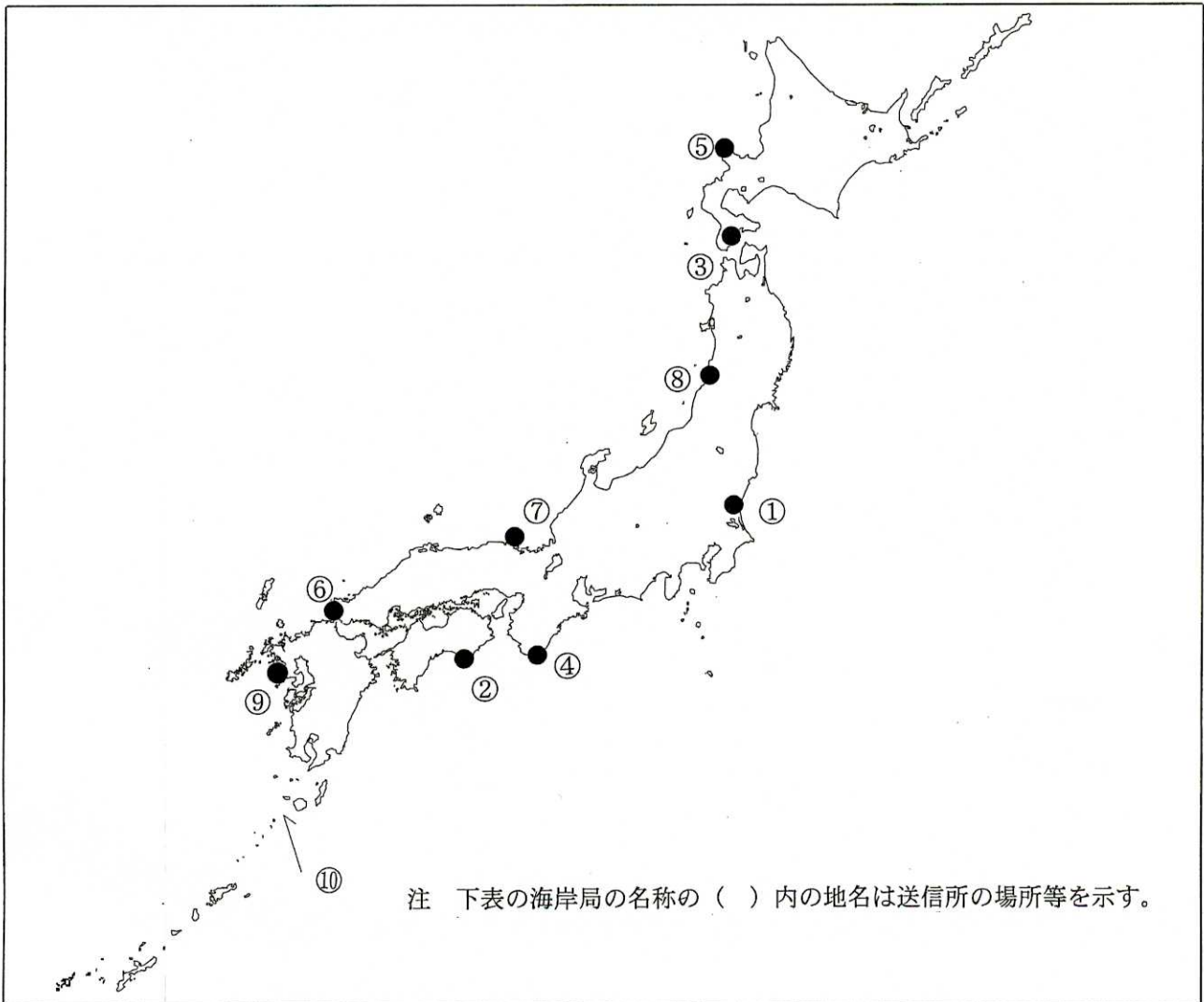


第二級総合無線通信士「地理」試験問題

40問 1時間

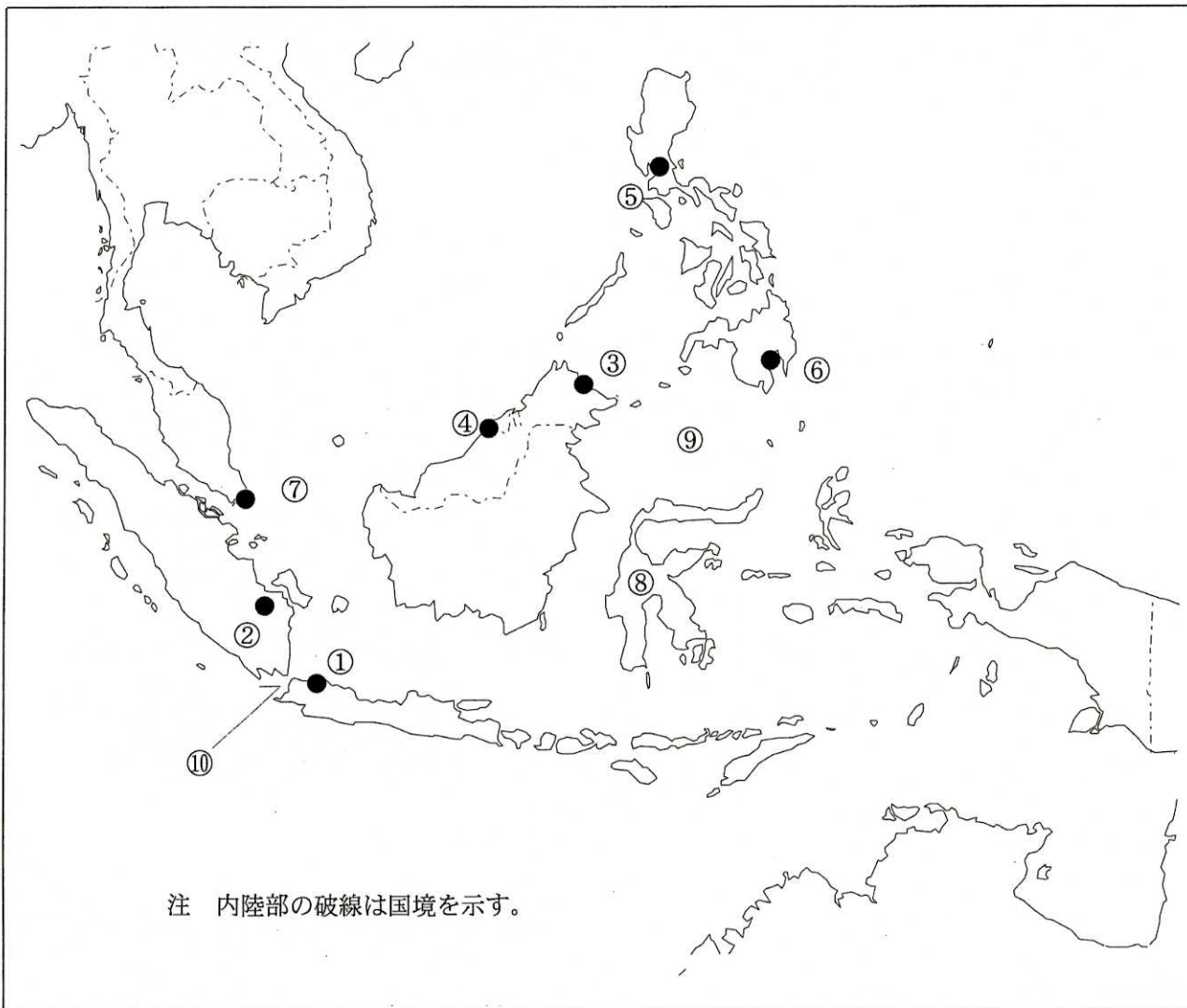
問I 下図により、下表の左欄の事項のそれぞれに該当するものの名称を右欄の語群から一つ選び、その番号で答えよ。



注 下表の海岸局の名称の（ ）内の地名は送信所の場所等を示す。

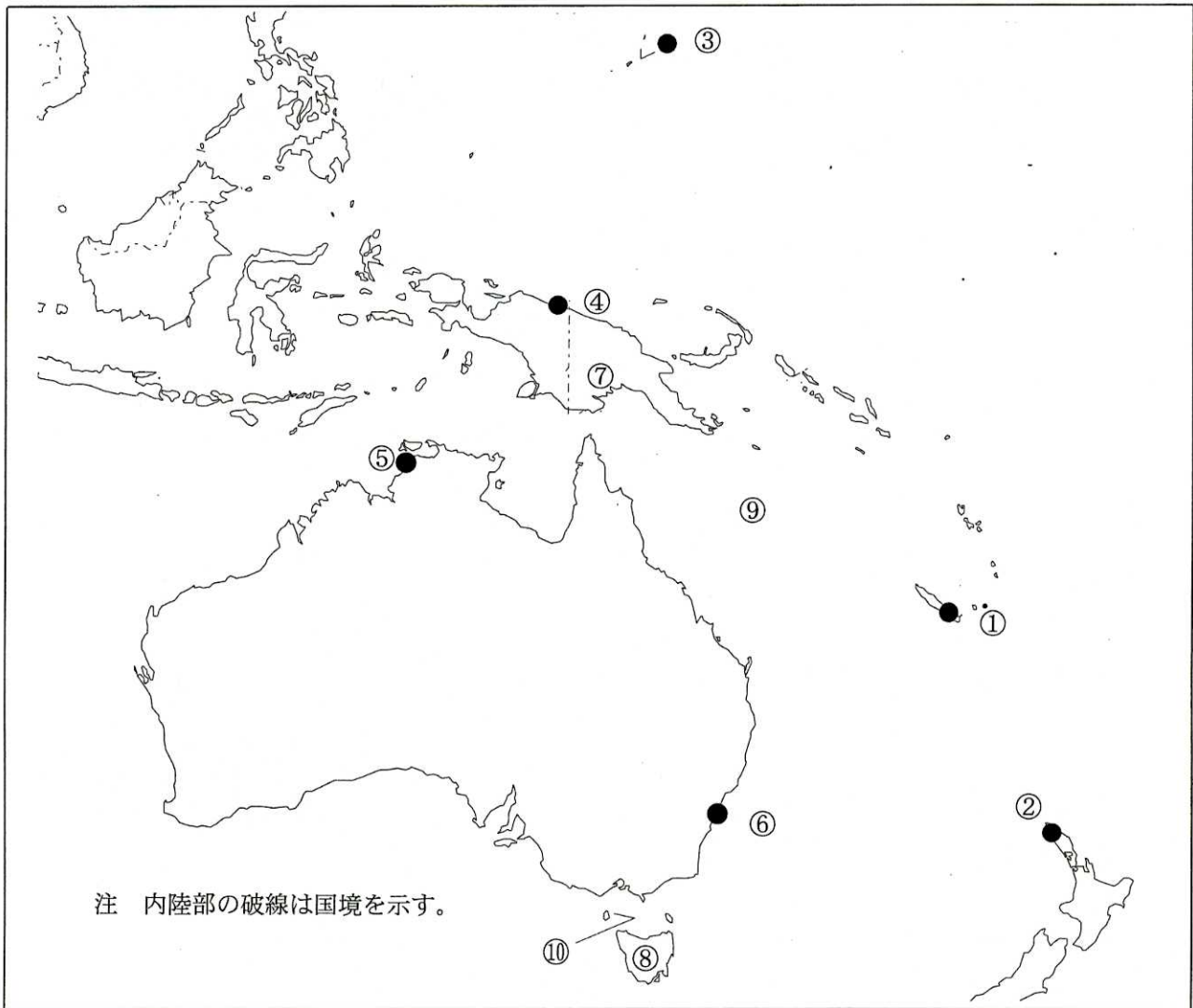
事 項	語 群		
[1] ●印の①に位置する電気通信業務を取り扱う漁業用海岸局の名称	1 福島県 4 茨城県	2 宮城県	3 神奈川県
[2] ●印の②に位置する電気通信業務を取り扱う漁業用海岸局の名称	1 仙崎 4 室戸	2 油津	3 長崎県
[3] ●印の③に位置する海上保安庁の海岸局の名称	1 小樽(昆布森) 4 小樽(羅臼)	2 小樽(萩ヶ岡)	3 小樽(大野)
[4] ●印の④に位置する海上保安庁の海岸局の名称	1 神戸(六甲) 4 神戸(明神山)	2 神戸(潮岬)	3 神戸(高知)
[5] ●印の⑤に位置するナブテックスで海上安全情報を送信する海上保安庁の海岸局の名称	1 釧路(十町瀬) 4 小樽(函館山)	2 小樽(積丹第2)	3 小樽(上厚内)
[6] ●印の⑥に位置するナブテックスで海上安全情報を送信する海上保安庁の海岸局の名称	1 鹿児島(吉見山) 4 門司(延行第2)	2 鹿児島(朝戸)	3 門司(雲仙)
[7] ●印の⑦に位置する海上保安庁の無線航行陸上局(ディファレンシャルGPSによるもの)の名称	1 大浜 4 若宮	2 浜田	3 丹後
[8] ●印の⑧に位置する海上保安庁の無線航行陸上局(ディファレンシャルGPSによるもの)の名称	1 酒田 4 松前	2 若宮	3 金華山
[9] ●印の⑨に位置する開港名	1 三角 4 細島	2 長崎	3 博多
[10] ⑩の海峡名	1 対馬海峡 4 吐噶喇海峡	2 大隅海峡	3 平館海峡

問Ⅱ 下図により、下表の左欄の事項のそれぞれに該当するものの名称を右欄の語群から一つ選び、その番号で答えよ。



事 項	語 群	
[11] ●印の①に位置する公衆通信業務を取り扱う海岸局の名称	1 Samarinda Radio 3 Makassar Radio	2 Jakarta Radio 4 Surabaya Radio
[12] ●印の②に位置する公衆通信業務を取り扱う海岸局の名称	1 Manado Radio 3 Tarakan Radio	2 Pontianak Radio 4 Palembang Radio
[13] ●印の③に位置するナプテックスで海上安全情報を送信する海岸局の名称	1 Makassar 3 Walvis Bay	2 Sandakan 4 Da Nang Radio
[14] ●印の④に位置するナプテックスで海上安全情報を送信する海岸局の名称	1 Penang 3 Ambon	2 Miri 4 Hai Phong
[15] ●印の⑤に位置する我が国の船舶の寄港地の名称	1 Port Moresby 3 Banjarmasin	2 Manila 4 San Fernando
[16] ●印の⑥に位置する我が国の船舶の寄港地の名称	1 Iloilo 3 Batangas	2 Davao 4 Kota Kinabalu
[17] ●印の⑦に位置する海岸地球局の名称	1 Jatiluhur 3 Sentosa	2 Perth 4 Pune
[18] ⑧の島名	1 Bali 3 Flores	2 Timor 4 Sulawesi
[19] ⑨の海名	1 Sulu Sea 3 Java Sea	2 Celebes Sea 4 Arafura Sea
[20] ⑩の海峡名	1 Karimata Str. 3 Makassar Str.	2 Torres Str. 4 Sunda Str.

問Ⅲ 下図により、下表の左欄の事項のそれぞれに該当するものの名称を右欄の語群から一つ選び、その番号で答えよ。



事 項	語 群	
[21] ●印の①に位置する公衆通信業務を取り扱う海岸局の名称	1 Lembar Radio 3 Lawi-Lawi Radio	2 Pago Pago Radio 4 Noumea Radio
[22] ●印の②に位置する公衆通信業務を取り扱う海岸局の名称	1 Mahina Radio 3 Awanui Radio	2 Kupang Radio 4 Ternate Radio
[23] ●印の③に位置するナプテックスで海上安全情報を送信する海岸局の名称	1 Guam 3 Tofino	2 Honolulu 4 Malin Head
[24] ●印の④に位置するナプテックスで海上安全情報を送信する海岸局の名称	1 Ayora 3 Mauritius	2 Paita 4 Jayapura
[25] ●印の⑤に位置する我が国の船舶の寄港地の名称	1 Adelaide 3 Darwin	2 Brisbane 4 Port Hedland
[26] ●印の⑥に位置する我が国の船舶の寄港地の名称	1 Derby 3 Townsville	2 Sydney 4 Wellington
[27] ⑦の国名	1 Republic of Nauru 3 Independent State of Papua New Guinea	2 Republic of Kiribati 4 Tuvalu
[28] ⑧の島名	1 Bora-Bora 3 New Ireland I.	2 South I. 4 Tasmania
[29] ⑨の海名	1 Banda Sea 3 Solomon Sea	2 Coral Sea 4 Timor Sea
[30] ⑩の海峡名	1 Bass Str. 3 Torres Str.	2 Cook Str. 4 Foveaux Str.

問IV 次の問いに答えよ。

1 次表のA群のそれぞれの国の首都名をB群の都市から一つ選び、その番号で答えよ。

A 群	B 群	
[31] Socialist Republic of Viet Nam	1 Vinh 3 Hanoi	2 Da Nang 4 Ho Chi Minh
[32] India	1 Goa 3 New Delhi	2 Kolkata (Calcutta) 4 Mumbai (Bombay)
[33] United Arab Emirates	1 Abu Dhabi 3 Damascus	2 Muscat 4 Riyadh
[34] Arab Republic of Egypt	1 Port Said 3 Alexandria	2 Suez 4 Cairo
[35] Federative Republic of Brazil	1 Santiago 3 Rio de Janeiro	2 Santos 4 Brasilia

2 次表のA群のそれぞれの都市は、我が国の船舶の寄港地であるが、それぞれの所属国名をB群から一つ選び、その番号で答えよ。

A 群	B 群
[36] Seattle	1 Canada 2 Kingdom of Norway 3 United Mexican States 4 United States of America
[37] Marseille	1 Republic of Italy 2 French Republic 3 Kingdom of Spain 4 Portuguese Republic
[38] Durban	1 Republic of Kenya 2 Republic of Malawi 3 Republic of South Africa 4 United Republic of Tanzania
[39] Montevideo	1 Republic of Peru 2 Argentine Republic 3 Oriental Republic of Uruguay 4 Bolivarian Republic of Venezuela
[40] Auckland	1 Australia 2 New Zealand 3 Republic of the Fiji Islands 4 United Kingdom of Great Britain and Northern Ireland