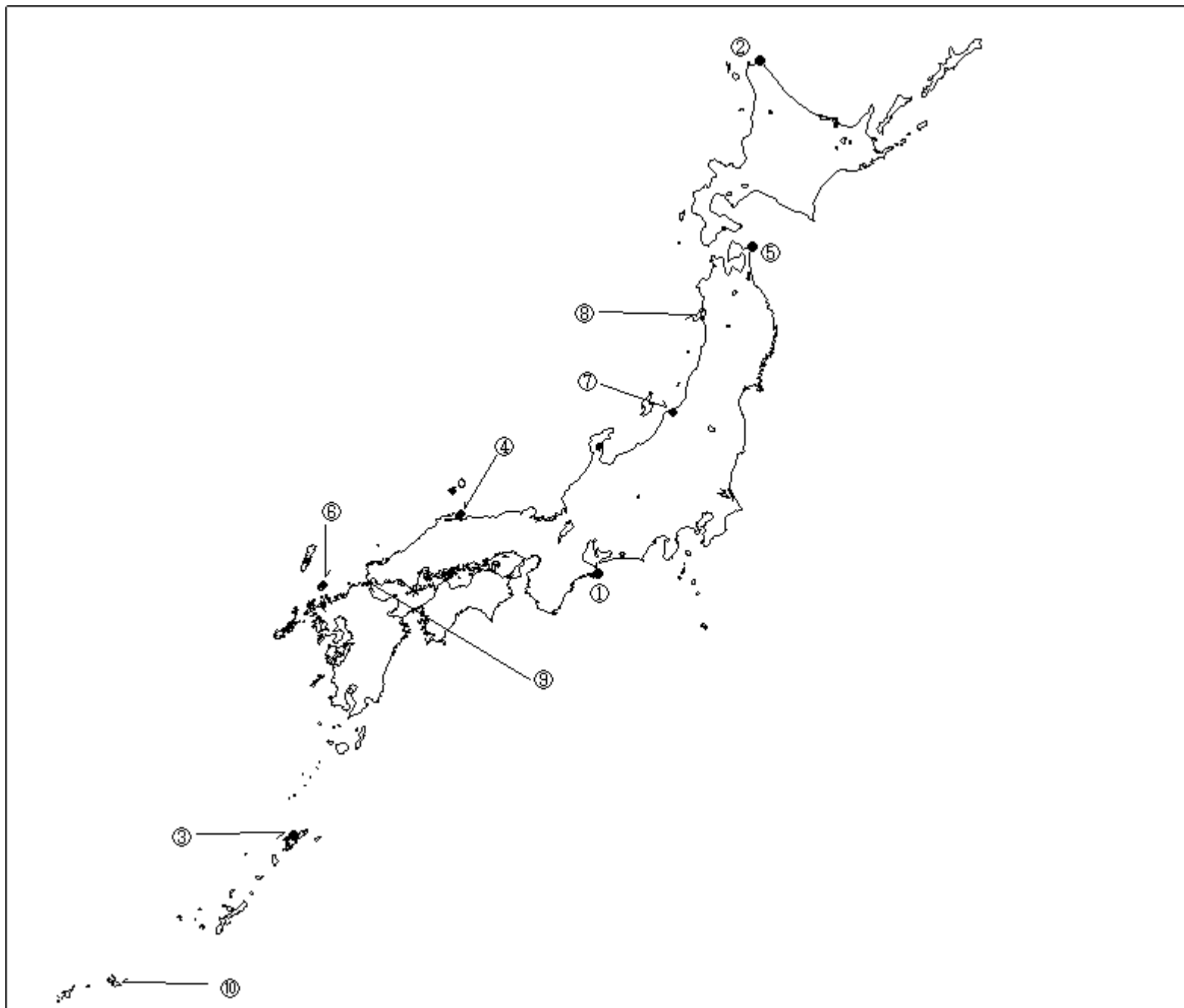


第二級総合無線通信士「地理」試験問題

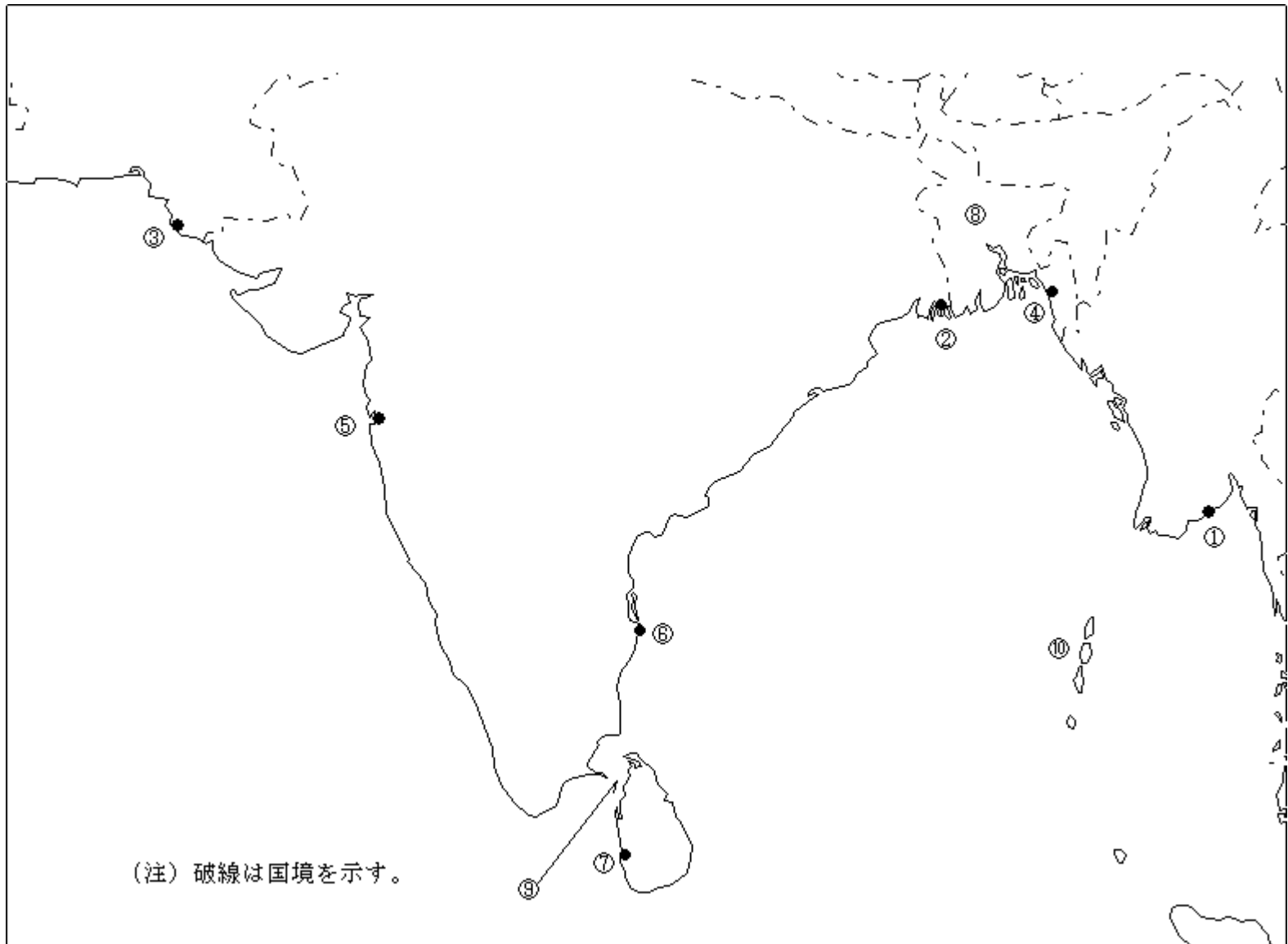
40問 1時間

問 下図により、下表の左欄の事項のそれぞれに該当するものの名称を右欄の語群から一つ選び、その番号で答えよ。



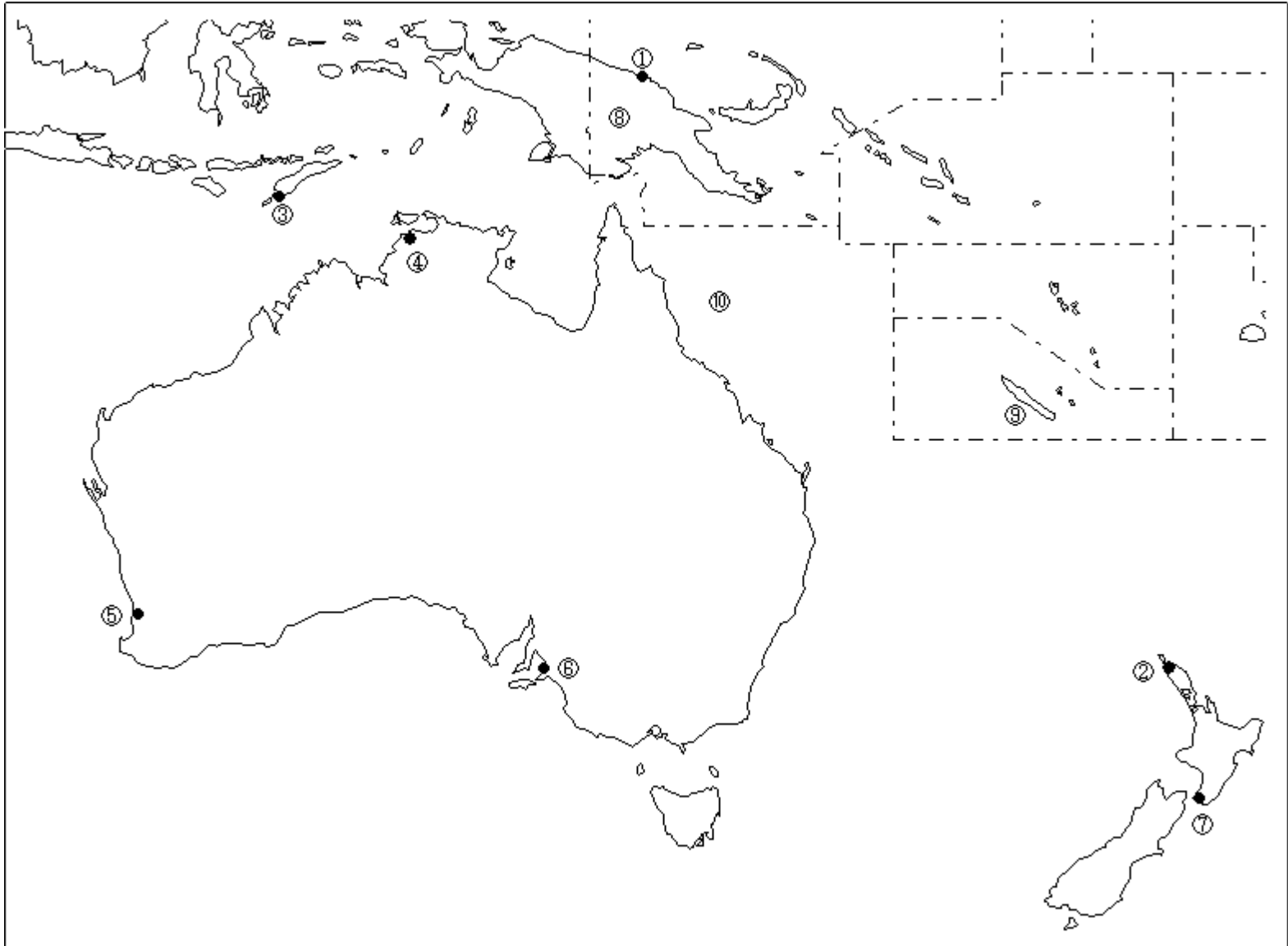
事 項	語 群
[1] 印の に位置する電気通信業務を取り扱う海岸局の名称	1 静岡県 2 仙崎 3 室戸 4 三重県
[2] 印の に位置する海上保安庁の海岸局の名称	1 釧路(萩ヶ岡) 2 釧路(紋別) 3 釧路(昆布森) 4 釧路(根室)
[3] 印の に位置する海上保安庁の海岸局の名称	1 鹿児島(油津) 2 鹿児島(名瀬) 3 鹿児島(吉見山) 4 那覇(東風平)
[4] 印の に位置する海上保安庁の無線標識局の名称	1 経ヶ岬 2 猿山岬 3 美保関 4 浜田
[5] 印の に位置する海上保安庁の無線航行陸上局(ディファレンシャルGPSによるもの)の名称	1 尻屋埼 2 松前 3 金華山 4 積丹岬
[6] 印の に位置する海上保安庁の無線航行陸上局(ディファレンシャルGPSによるもの)の名称	1 大瀬崎 2 大浜 3 若宮 4 浜田
[7] 印の に位置する開港名	1 直江津 2 新潟 3 酒田 4 七尾
[8] の半島名	1 牡鹿半島 2 下北半島 3 渡島半島 4 男鹿半島
[9] の海峡名	1 来島海峡 2 大隈海峡 3 関門海峡 4 豊予海峡
[10] の島名	1 宮古島 2 西表島 3 石垣島 4 与那国島

問 下図により、下表の左欄の事項のそれぞれに該当するものの名称を各右欄の語群から一つ選び、その番号で答えよ。



事 項	語 群	
[11] 印の に位置する公衆通信業務を取り扱う海岸局の名称	1 Chittagong Radio 3 Bangkok Radio	2 Yangon Radio 4 Penang Radio
[12] 印の に位置する公衆通信業務を取り扱う海岸局の名称	1 Port Blair Radio 3 Calcutta Radio	2 Chittagong Radio 4 Khulna Radio
[13] 印の に位置する公衆通信業務を取り扱う海岸局の名称	1 Karachi Radio 3 Vishakhapatnam Radio	2 Kandla Radio 4 Chabahar Radio
[14] 印の に位置する我が国の船舶の寄港地の名称	1 Chittagong 3 Khulna	2 Machilipatnam 4 Yangon
[15] 印の に位置する我が国の船舶の寄港地の名称	1 Jamnagar 3 Mangalore	2 Goa 4 Mumbai (Bombay)
[16] 印の に位置する我が国の船舶の寄港地の名称	1 Machilipatnam 3 Cochin	2 Kakinada 4 Chennai (Madras)
[17] 印の に位置する我が国の船舶の寄港地の名称	1 Kakinada 3 Cuddalore	2 Colombo 4 Trincomalee
[18] の国名	1 Kingdom of Cambodia 3 People's Republic of Bangladesh	2 Islamic Republic of Pakistan 4 Union of Myanmar
[19] の海峡名	1 Ten Degree Strait 3 Palk Strait	2 Strait of Malacca 4 Strait of Hormuz
[20] の諸島名	1 Laccadive Islands 3 Maldive Islands	2 Andaman Islands 4 Seychelles Islands

問 下図により、下表の左欄の事項のそれぞれに該当するものの名称を右欄の語群から一つ選び、その番号で答えよ。



事 項	語 群	
[21] 印の に位置する公衆通信業務を取り扱う 海岸局の名称	1 Rabaul Radio 3 Sorong Radio	2 Port Moresby Radio 4 Wewak Radio
[22] 印の に位置する公衆通信業務を取り扱う 海岸局の名称	1 Awanui Radio 3 Noumea Radio	2 Honiara Radio 4 Port-Vila Radio
[23] 印の に位置する公衆通信業務を取り扱う 海岸局の名称	1 Jakarta Radio 3 Balikpapan Radio	2 Surabaya Radio 4 Kupang Radio
[24] 印の に位置する我が国の船舶の寄港地の 名称	1 Brisbane 3 Cairns	2 Darwin 4 Port Hedland
[25] 印の に位置する我が国の船舶の寄港地の 名称	1 Geraldton 3 Fremantle	2 Port Hedland 4 Esperance
[26] 印の に位置する我が国の船舶の寄港地の 名称	1 Hobart 3 Adelaide	2 Melbourne 4 Brisbane
[27] 印の に位置する我が国の船舶の寄港地の 名称	1 Wellington 3 Auckland	2 Napier 4 Hobart
[28] の島名	1 New Caledonia Island 3 New Ireland Island	2 New Guinea Island 4 New Britain Island
[29] の島名	1 Tahiti Island 3 New Britain Island	2 New Caledonia Island 4 Tasmania Island
[30] の海名	1 Coral Sea 3 Arafura Sea	2 Tasman Sea 4 Solomon Sea

問 次の問いに答えよ。

- 1 次表のA群のそれぞれの国の首都名をB群の都市から一つ選び、その番号で答えよ。

A 群	B 群
[31] Republic of Indonesia	1 Surabaya 2 Kuala Lumpur 3 Bandon 4 Jakarta
[32] Islamic Republic of Iran	1 Kabul 2 Baghdad 3 Tehran 4 Dhaka
[33] Kingdom of Belgium	1 Antwerpen (Anvers) 2 Bruxelles 3 Den Haag 4 Bucharest
[34] Republic of South Africa	1 Pretoria 2 Kinshasa 3 Harare 4 Cape Town
[35] Republic of Peru	1 Quito 2 Caracas 3 Lima 4 Lapaz

- 2 次表のA群のそれぞれの都市は、我が国の船舶の寄港地であるが、それぞれの所属国名をB群から一つ選び、その番号で答えよ。

A 群	B 群
[36] Dubayy (Dubai)	1 United Arab Emirates 2 Kingdom of Saudi Arabia 3 State of Qatar 4 Kingdom of Bahrain
[37] Le Havre	1 Kingdom of Denmark 2 Kingdom of the Netherlands 3 French Republic 4 Kingdom of Belgium
[38] Port Elizabeth	1 Republic of Kenya 2 Federal Republic of Nigeria 3 United Republic of Tanzania 4 Republic of South Africa
[39] Houston	1 United Mexican States 2 United States of America 3 Canada 4 United Kingdom of Great Britain and Northern Ireland
[40] Belem	1 Federative Republic of Brazil 2 Republic of Chile 3 Bolivarian Republic of Venezuela 4 Argentine Republic