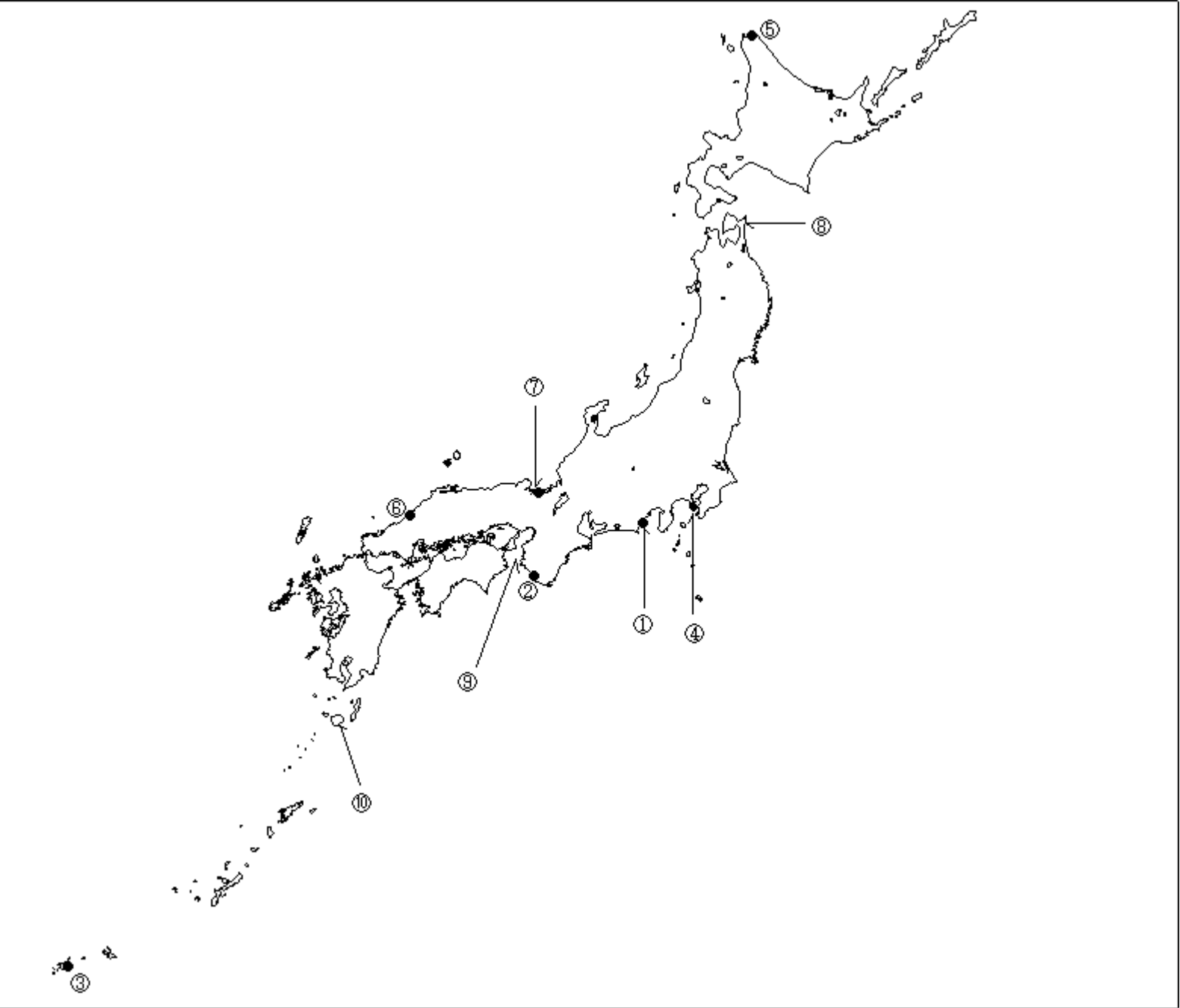


第二級総合無線通信士「地理」試験問題

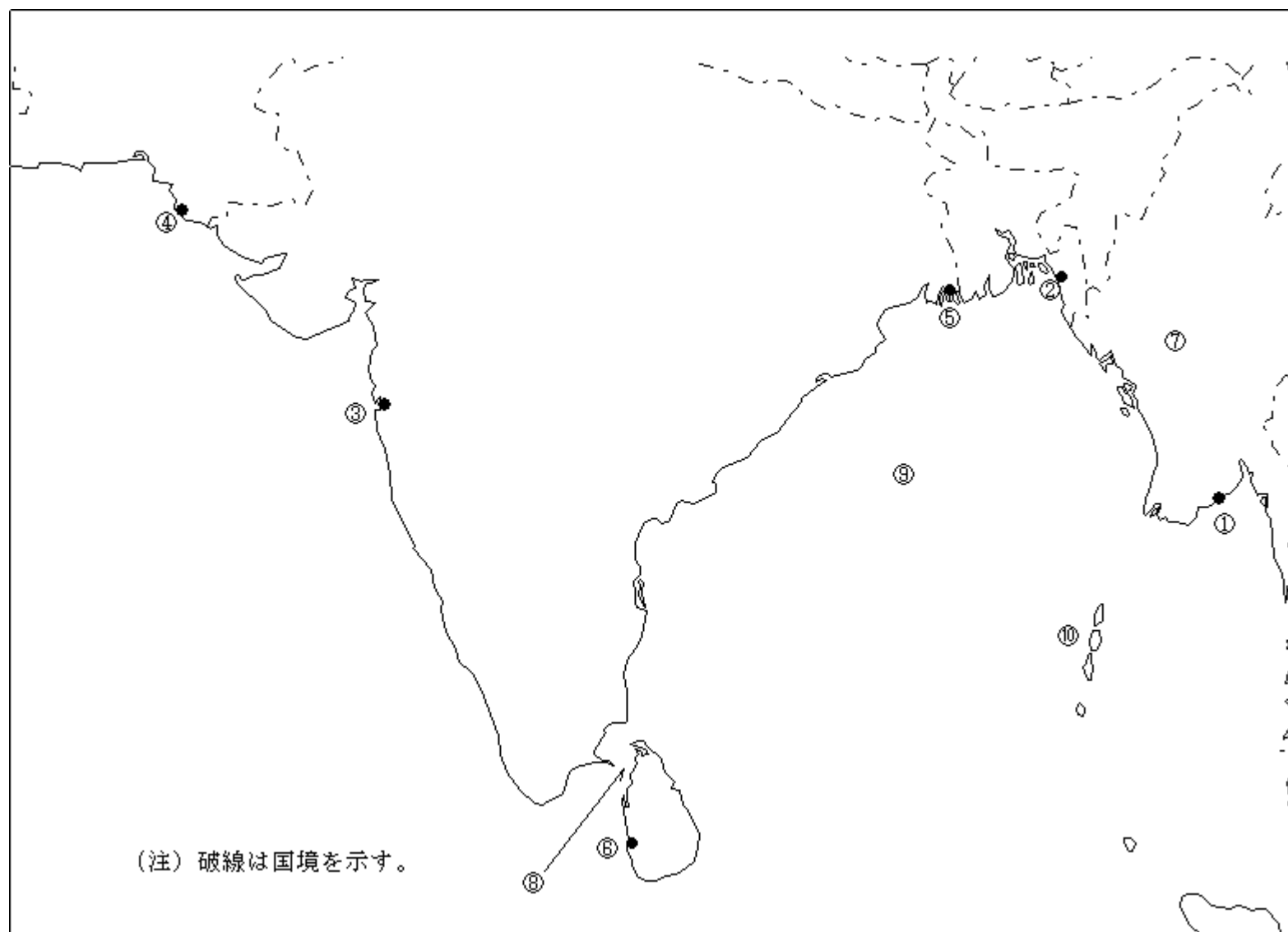
40問 1時間

問 下図により、下表の左欄の事項のそれぞれに該当するものの名称を右欄の語群から選び、その番号で答えよ。



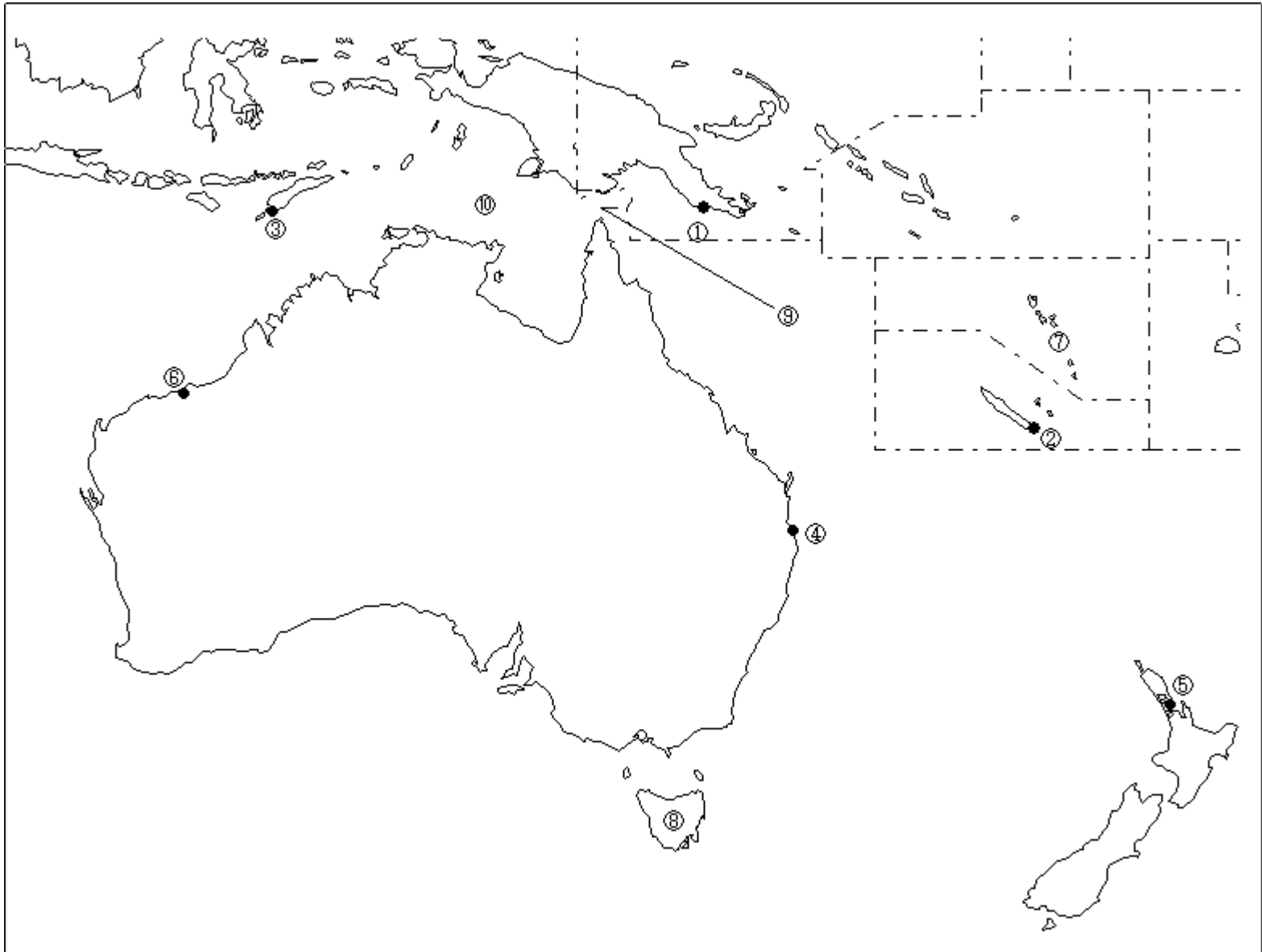
事 項	語 群			
[1] 印の に位置する電気通信業務を取り扱う海岸局の名称	1 三重県	2 静岡県	3 三崎	4 室戸
[2] 印の に位置する海上保安庁の海岸局の名称	1 名古屋（松尾）	2 田辺	3 神戸（津名）	4 高知
[3] 印の に位置する海上保安庁の海岸局の名称	1 石垣（真米里）	2 那覇（東風平）	3 鹿児島（名瀬）	4 鹿児島（吉見山）
[4] 印の に位置する海上保安庁の無線標識局の名称	1 塩屋崎	2 犬吠崎	3 御前崎	4 劔崎
[5] 印の に位置する海上保安庁の無線航行陸上局（ディファレンシャルGPSによるもの）の名称	1 積丹岬	2 松前	3 宗谷岬	4 尻屋崎
[6] 印の に位置する海上保安庁の無線航行陸上局（ディファレンシャルGPSによるもの）の名称	1 浜田	2 若宮	3 大瀬崎	4 丹後
[7] 印の に位置する開港名	1 七尾	2 境	3 舞鶴	4 敦賀
[8] の半島名	1 渡島半島	2 下北半島	3 津軽半島	4 亀田半島
[9] の海峡又は水道名	1 紀伊水道	2 明石海峡	3 鳴門海峡	4 来島海峡
[10] の島名	1 種子島	2 徳之島	3 奄美大島	4 屋久島

問 下図により、下表の左欄の事項のそれぞれに該当するものの名称を各右欄の語群から選び、その番号で答えよ。



事 項	語 群	
[11] 印の に位置する公衆通信業務を取り扱う海岸局の名称	1 Yangon Radio 3 Chittagong Radio	2 Bangkok Radio 4 Penang Radio
[12] 印の に位置する公衆通信業務を取り扱う海岸局の名称	1 Chittagong Radio 3 Port Blair Radio	2 Yangon Radio 4 Khulna Radio
[13] 印の に位置する公衆通信業務を取り扱う海岸局の名称	1 Chennai (Madras) Radio 3 Vishakhapatnam Radio	2 Cochin Radio 4 Mumbai (Bombay) Radio
[14] 印の に位置する我が国の船舶の寄港地の名称	1 Goa 3 Karachi	2 Chennai (Madras) 4 Mumbai (Bombay)
[15] 印の に位置する我が国の船舶の寄港地の名称	1 Yangon 3 Chittagong	2 Calcutta 4 Khulna
[16] 印の に位置する我が国の船舶の寄港地の名称	1 Trincomalee 3 Colombo	2 Cuddalore 4 Kakinada
[17] の国名	1 Union of Myanmar 3 Islamic Republic of Pakistan	2 People's Republic of Bangladesh 4 Kingdom of Cambodia
[18] の海峡名	1 Ten Degree Strait 3 Strait of Malacca	2 Palk Strait 4 Strait of Hormuz
[19] の海名又は湾名	1 Arabian Sea 3 Gulf of Aden	2 Andaman Sea 4 Bay of Bengal
[20] の諸島名	1 Laccadive Islands 3 Andaman Islands	2 Seychelles Islands 4 Maldiv Islands

問 下図により、下表の左欄の事項のそれぞれに該当するものの名称を右欄の語群から選び、その番号で答えよ。



事 項	語 群	
[21] 印の に位置する公衆通信業務を取り扱う 海岸局の名称	1 Suva Radio 3 Port-Vila Radio	2 Port Moresby Radio 4 Honiara Radio
[22] 印の に位置する公衆通信業務を取り扱う 海岸局の名称	1 Port-Vila Radio 3 Noumea Radio	2 Nauru Radio 4 Apia Radio
[23] 印の に位置する公衆通信業務を取り扱う 海岸局の名称	1 Jakarta Radio 3 Balikpapan Radio	2 Surabaya Radio 4 Kupang Radio
[24] 印の に位置する我が国の船舶の寄港地の 名称	1 Brisbane 3 Sydney	2 Darwin 4 Gladstone
[25] 印の に位置する我が国の船舶の寄港地の 名称	1 Wellington 3 Napier	2 Auckland 4 Hobart
[26] 印の に位置する我が国の船舶の寄港地の 名称	1 Esperance 3 Port Hedland	2 Darwin 4 Fremantle
[27] の国名	1 Republic of Nauru 3 Republic of the Fiji Islands	2 Solomon Islands 4 Republic of Vanuatu
[28] の島名	1 New Caledonia Island 3 Tasmania Island	2 South Island 4 New Britain Island
[29] の海峡名	1 Torres Strait 3 Molucca Strait	2 Strait of Lombok 4 Bass Strait
[30] の海名	1 Solomon Sea 3 Coral Sea	2 Arafura Sea 4 Banda Sea

問 次の問いに答えよ。

- 1 次表のA群のそれぞれの国の首都名をB群の都市から選び、その番号で答えよ。

A 群	B 群
[31] Kingdom of Cambodia	1 Vientiane 2 Yangon 3 Phnom Penh 4 Hanoi
[32] Kingdom of Belgium	1 Copenhagen 2 Antwerp 3 Luxembourg 4 Bruxelles (Brussels)
[33] Democratic People's Republic of Algeria	1 Alger 2 Tripoli 3 Tunis 4 Khartoum
[34] Republic of Cuba	1 Nassau 2 Kingston 3 Santo Domingo 4 Havana
[35] Republic of Ecuador	1 Lapaz 2 Quito 3 Caracas 4 Lima

- 2 次表のA群のそれぞれの都市は、我が国の船舶の寄港地であるが、それぞれの所属国名をB群から選び、その番号で答えよ。

A 群	B 群
[36] Dubai (Dubayy)	1 Republic of Yemen 2 Kingdom of Saudi Arabia 3 United Arab Emirates 4 State of Bahrain
[37] Southampton	1 Kingdom of the Netherlands 2 Kingdom of Belgium 3 Kingdom of Denmark 4 United Kingdom of Great Britain and Northern Ireland
[38] Alexandria	1 Arab Republic of Egypt 2 State of Israel 3 Socialist People's Libyan Arab Jamahiriya 4 Syrian Arab Republic
[39] New Orleans	1 Commonwealth of Australia 2 United Kingdom of Great Britain and Northern Ireland 3 Canada 4 United States of America
[40] Hai Phong	1 Kingdom of Cambodia 2 Socialist Republic of Viet Nam 3 Union of Myanmar 4 Kingdom of Thailand