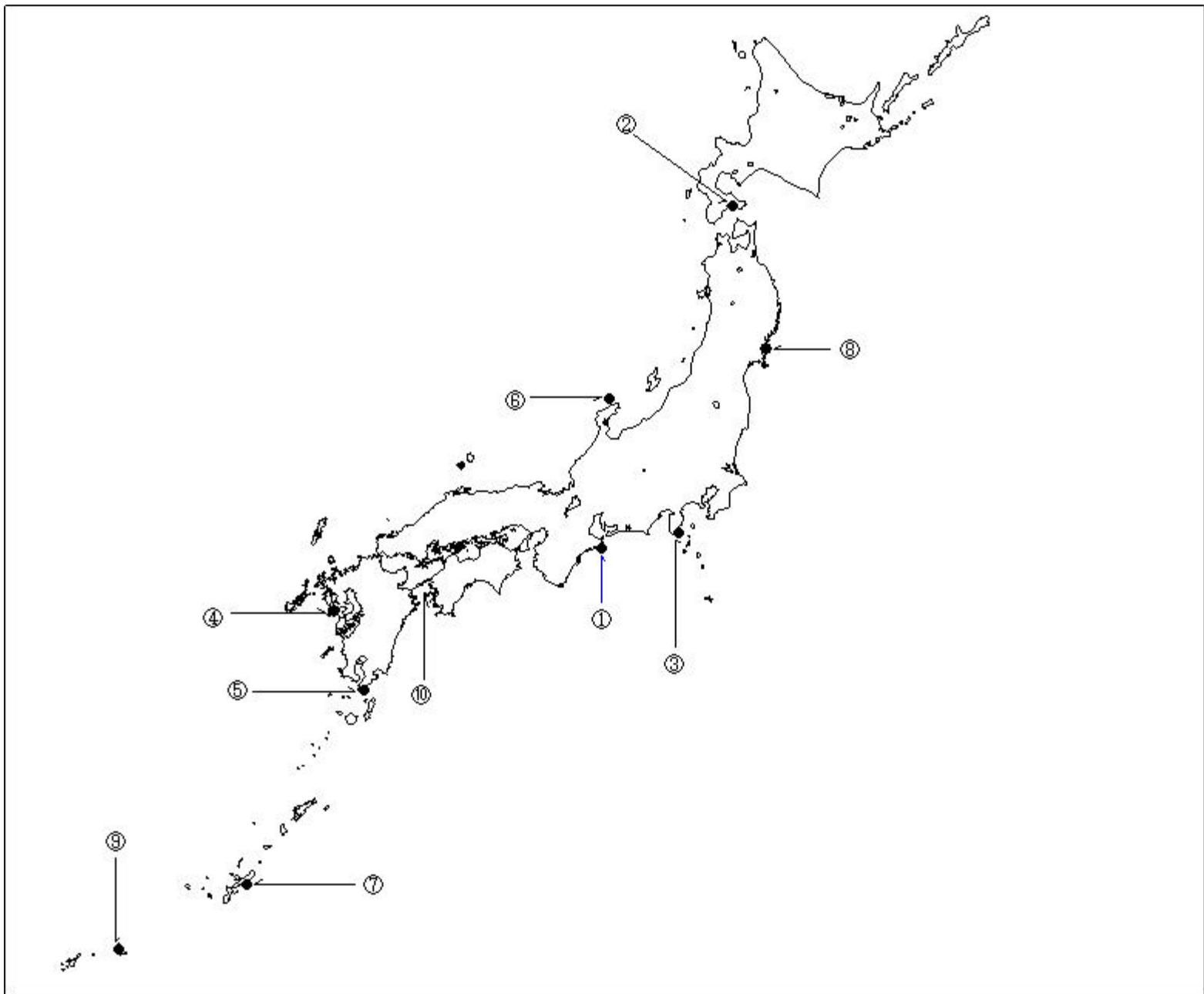


第二級総合無線通信士「地理」試験問題

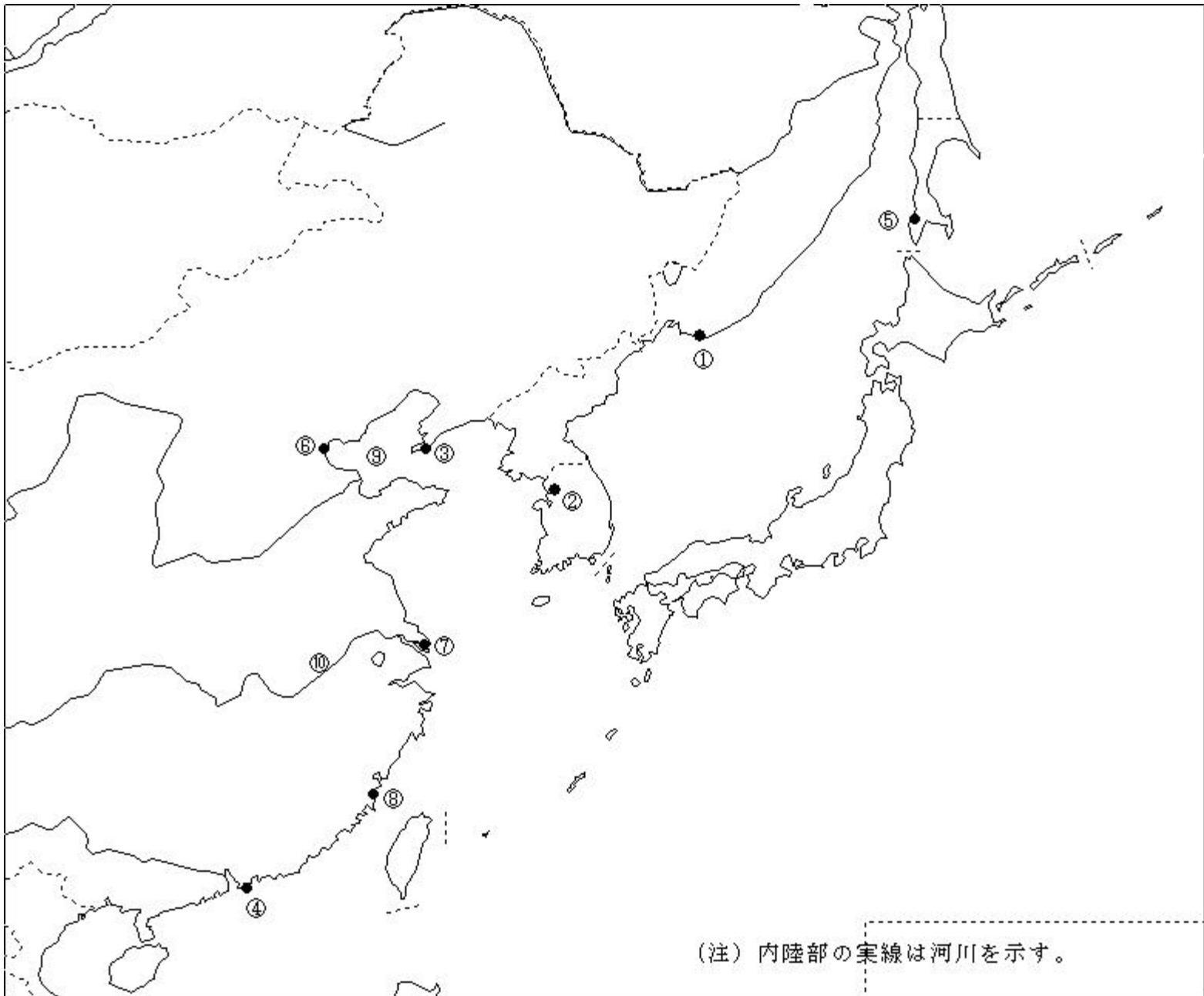
40問 1時間

問 下図により、下表の左欄の事項のそれぞれに該当するものの名称を右欄の語群から選び、その番号で答えよ。



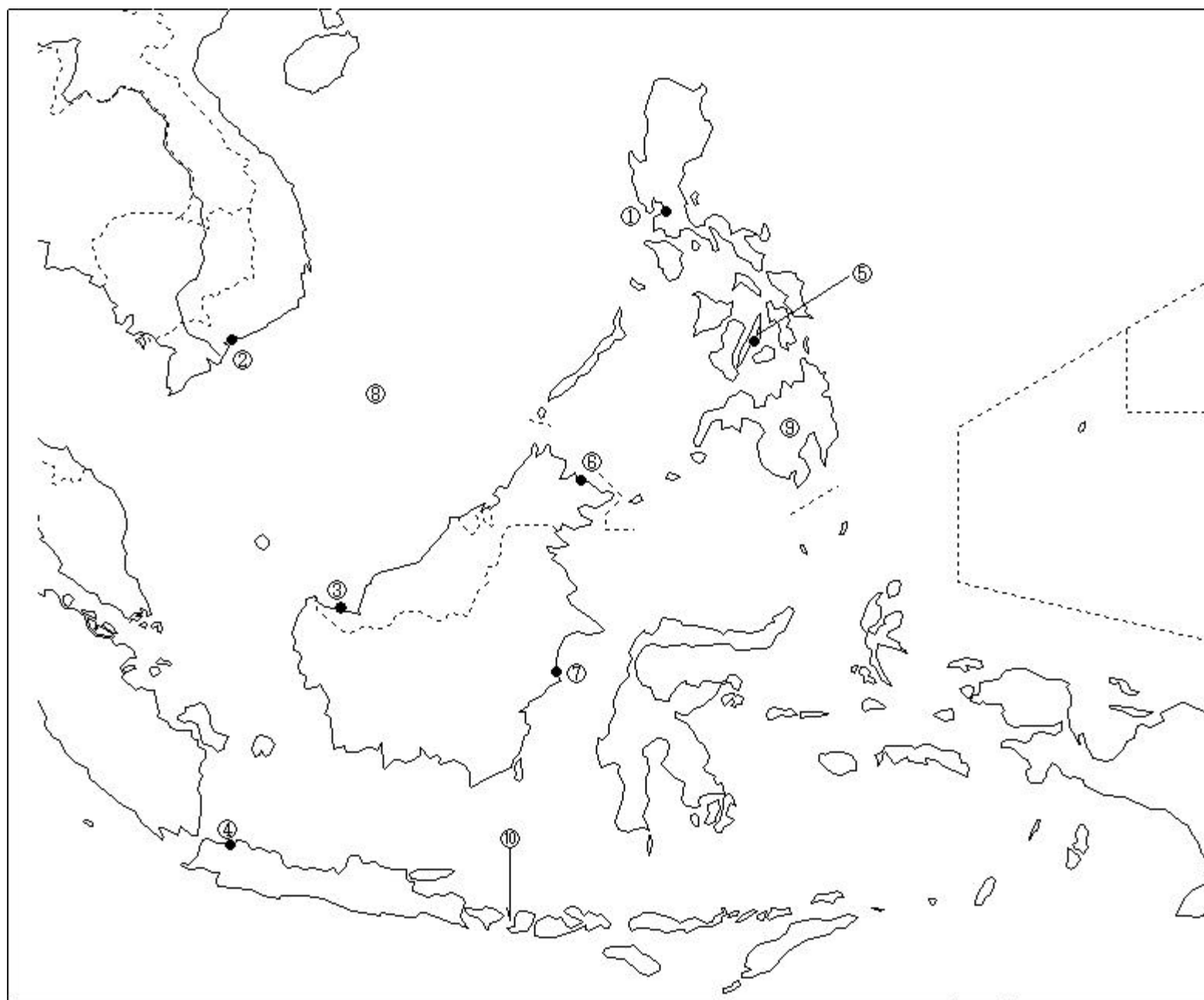
事 項	語 群
[1] 印の に位置する電気通信業務を取り扱う海岸局の名称	1 静岡県 2 三重県 3 室戸 4 油津
[2] 印の に位置する海上保安庁の海岸局の名称	1 小樽(積丹) 2 塩釜(鮫) 3 小樽(大野) 4 塩釜(釜石)
[3] 印の に位置する海上保安庁の海岸局の名称	1 東京(富津) 2 横浜(下田) 3 横浜(白浜) 4 名古屋(松尾)
[4] 印の に位置する海上保安庁の海岸局の名称	1 門司(延行) 2 鹿児島(油津) 3 佐世保 4 長崎
[5] 印の に位置する海上保安庁の無線艦載局の名称	1 佐多岬 2 足摺岬 3 佐田岬 4 都井岬
[6] 印の に位置する海上保安庁の無線航行陸上局(ディファレンシャルGPSによるもの)の名称	1 舩倉島 2 尻屋埼 3 金華山 4 丹後
[7] 印の に位置する海上保安庁の無線航行陸上局(ディファレンシャルGPSによるもの)の名称	1 大瀬埼 2 宮古島 3 吐喝喇中之島 4 慶佐次
[8] 印の に位置する開港名	1 八戸 2 気仙沼 3 宮古 4 能代
[9] 印の に位置する開港名	1 平良 2 那覇 3 金武中城 4 石垣
[10] の海峡又は水道名	1 紀伊水道 2 来島海峡 3 友ヶ島水道 4 豊後水道

問 下図により、下表の左欄の事項のそれぞれに該当するものの名称を右欄の語群から選び、その番号で答えよ。



事 項	語 群
[11] 印の に位置する公衆通信業務を取り扱う海岸局の名称	1 Petropavlovsk Radio 2 Nakhodka, Primorskogo Radio 3 Kholmsk Radio 4 Vladivostok Radio
[12] 印の に位置する公衆通信業務を取り扱う海岸局の名称	1 Mokpo (木浦) Radio 2 Inch'on (仁川) Radio 3 Pusan (釜山) Radio 4 Seoul Radio
[13] 印の に位置する公衆通信業務を取り扱う海岸局の名称	1 Dalian (大連) Radio 2 Qingdao (青島) Radio 3 Tianjin (天津) Radio 4 Qinhuangdao (秦皇島) Radio
[14] 印の に位置する公衆通信業務を取り扱う海岸局の名称	1 Xiamen (廈門) Radio 2 Shantou (汕頭) Radio 3 Fuzhou (福州) Radio 4 Hong Kong (香港) Radio
[15] 印の に位置する我が国の船舶の寄港地の名称	1 Korsakov 2 Kholmsk 3 Lazarev 4 Vostochnyy
[16] 印の に位置する我が国の船舶の寄港地の名称	1 Dalian (大連) 2 Qingdao (青島) 3 Tianjin (天津) 4 Qinhuangdao (秦皇島)
[17] 印の に位置する我が国の船舶の寄港地の名称	1 Ningbo (寧波) 2 Shanghai (上海) 3 Lianyungang (連雲港) 4 Wenzhou (温州)
[18] 印の に位置する我が国の船舶の寄港地の名称	1 Xiamen (廈門) 2 Guangzhou (広州) 3 Shantou (汕頭) 4 Fuzhou (福州)
[19] の海名	1 Bo Hai (渤海) 2 Yellow Sea (黄海) 3 East China Sea (東シナ海)
[20] の河川名	1 Chang Jiang (長江) 2 Xi Jiang (西江) 3 Huang He (黄河) 4 Liao He (遼河)

問 下図により、下表の左欄の事項のそれぞれに該当するものの名称を右欄の語群から選び、その番号で答えよ。



事 項	語	群
[21] 印の に位置する公衆通信業務を取り扱う海岸局の名称	1 Cebu Radio. 3 Manila Radio	2 Davao Radio 4 Laoag Radio
[22] 印の に位置する公衆通信業務を取り扱う海岸局の名称	1 Nha Trang Radio 3 Da Nang Radio	2 Ho Chi Minh Radio 4 Hai Phong Radio
[23] 印の に位置する公衆通信業務を取り扱う海岸局の名称	1 Kota Kinabalu Radio 3 Penang Radio	2 Banjarmasin Radio 4 Kuching Radio
[24] 印の に位置する公衆通信業務を取り扱う海岸局の名称	1 Kupang Radio 3 Jakarta Radio	2 Makassar Radio 4 Surabaya Radio
[25] 印の に位置する我が国の船舶の寄港地の名称	1 Cebu 3 San Fernando	2 Cagayan 4 Batangas
[26] 印の に位置する我が国の船舶の寄港地の名称	1 Sandakan 3 Miri	2 Samarinda 4 Tarakan
[27] 印の に位置する我が国の船舶の寄港地の名称	1 Pontianak 3 Manado	2 Samarinda 4 Padang
[28] の海名	1 Celebes Sea 3 Banda Sea	2 Andaman Sea 4 South China Sea
[29] の島名	1 Mindanao Island 3 Leyte Island	2 Luzon Island 4 Negros Island
[30] の海峡名	1 Strait of Malacca 3 Makassar Strait	2 Sunda Strait 4 Lombok Strait.

問 次の問いに答えよ。

1 次表のA群のそれぞれの国の首都名をB群の都市から選び、その番号で答えよ。

A 群	B 群
[31] People's Republic of Bangladesh	1 Kabul 2 Kuala Lumpur 3 Dhaka 4 Yangon
[32] Kingdom of Saudi Arabia	1 Tehran 2 Mecca 3 Damascus 4 Riyadh
[33] Canada	1 Ottawa 2 Montreal 3 Toronto 4 Vancouver
[34] Republic of South Africa	1 Cape Town 2 Nairobi 3 Johannesburg 4 Pretoria
[35] Bolivarian Republic of Venezuela	1 Quito 2 Caracas 3 Paramaribo 4 Montevideo

2 次表のA群のそれぞれの都市は、我が国の船舶の寄港地であるが、それぞれの所属国名をB群から選び、その番号で答えよ。

A 群	B 群
[36] Abu Dhabi	1 Republic of Yemen 2 Kingdom of Saudi Arabia 3 United Arab Emirates 4 State of Bahrain
[37] Hamburg	1 French Republic 2 Kingdom of the Netherlands 3 Kingdom of Denmark 4 Federal Republic of Germany
[38] Casablanca	1 Islamic Republic of Mauritania 2 Kingdom of Morocco 3 Democratic People's Republic of Algeria 4 Federal Republic of Nigeria
[39] Philadelphia	1 Commonwealth of Australia 2 United Kingdom of Great Britain and Northern Ireland 3 Federative Republic of Brazil 4 United States of America
[40] Las Palmas	1 Spain 2 United Kingdom of Great Britain and Northern Ireland 3 French Republic 4 Portuguese Republic