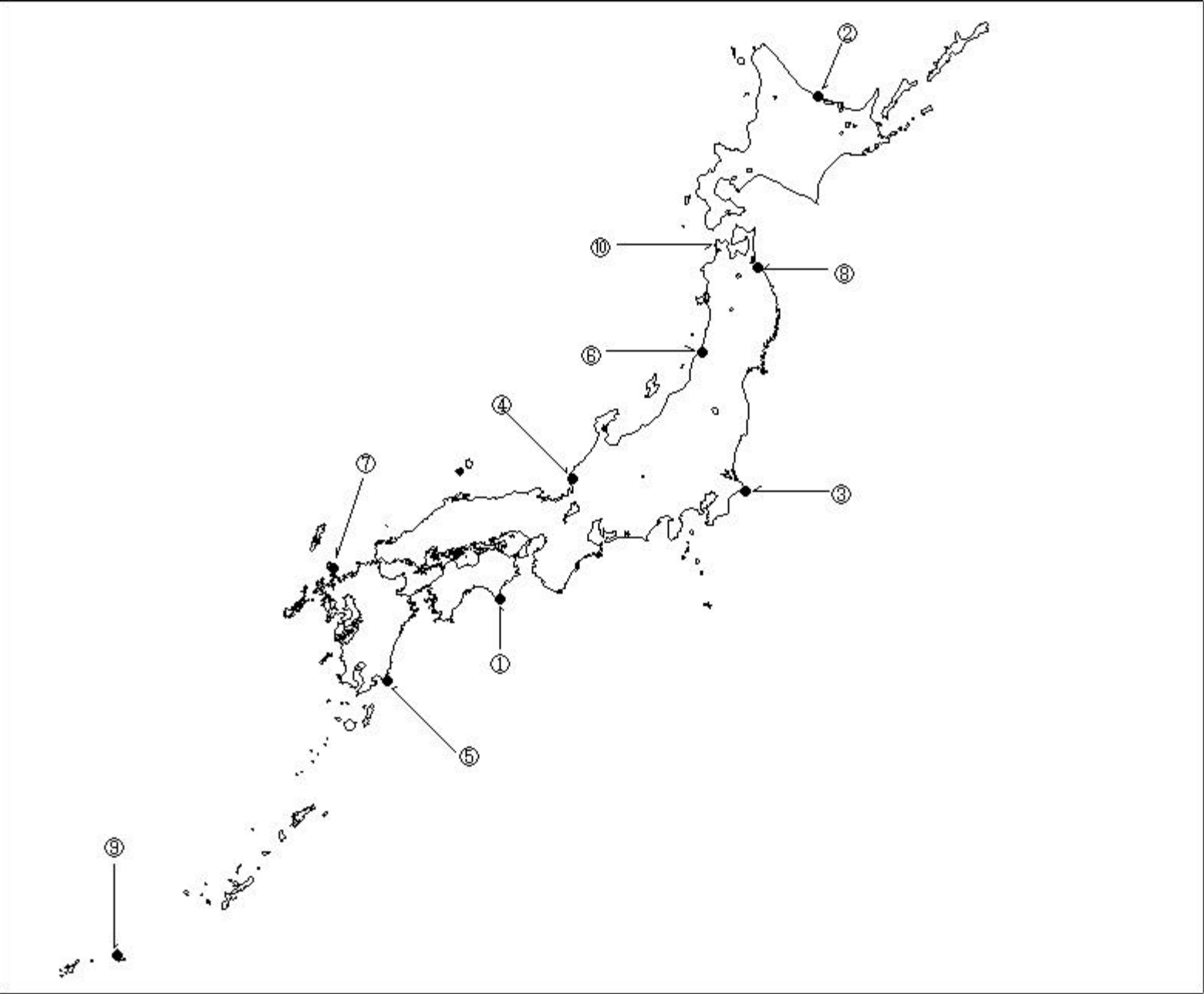


第二級総合無線通信士「地理」試験問題

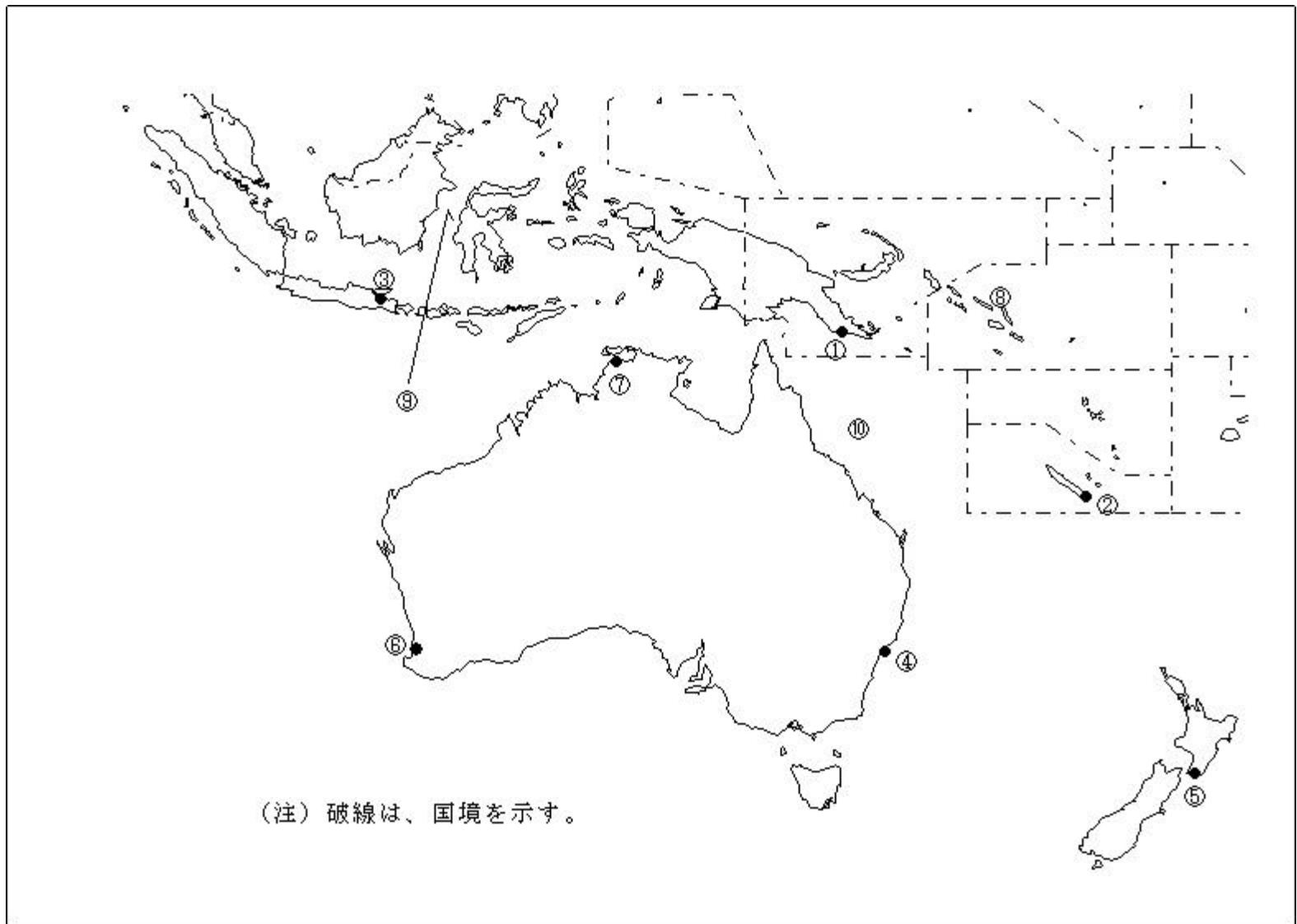
40問 1時間

問 下図により、下表の左欄の事項のそれぞれに該当するものの名称を各右欄の語群から選び、その番号で答えよ。



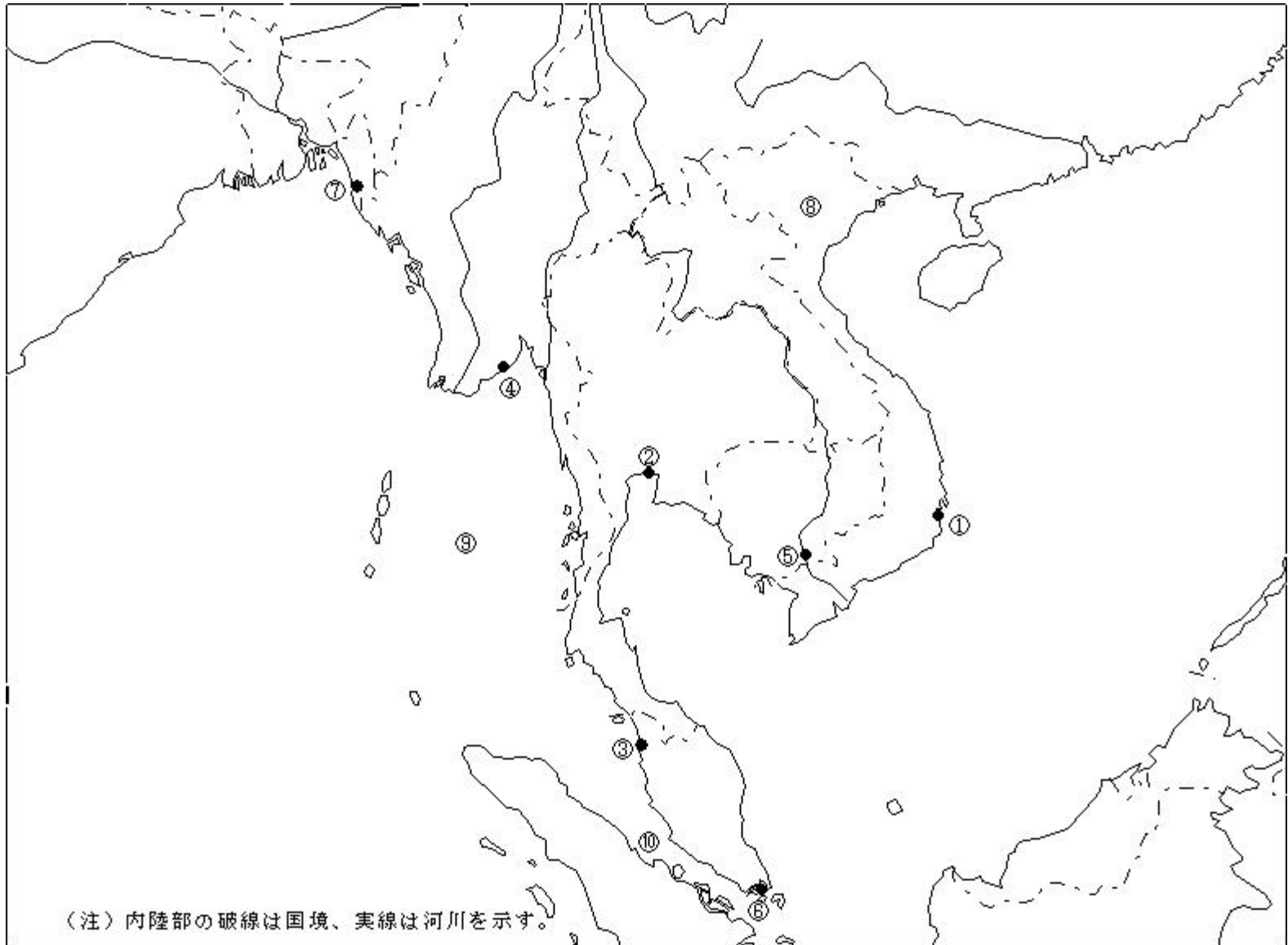
事 項	語 群
[ 1 ] 印の に位置する電気通信業務を取り扱う海岸局の名称	1 油津      2 室戸      3 三崎      4 仙崎
[ 2 ] 印の に位置する海上保安庁の海岸局の名称	1 釧路（紋別）      2 釧路（萩ケ岡）      3 釧路（昆布森） 4 釧路（根室）
[ 3 ] 印の に位置する海上保安庁の海岸局の名称	1 東京（富津）      2 横浜（白浜）      3 横浜（銚子） 4 塩釜（小名浜）
[ 4 ] 印の に位置する海上保安庁の海岸局の名称	1 舞鶴（枕木山）      2 神戸（津名）      3 新潟（猫ガ岳） 4 舞鶴（越前）
[ 5 ] 印の に位置する海上保安庁の無線標識局の名称	1 佐多岬      2 足摺岬      3 都井岬      4 佐田岬
[ 6 ] 印の に位置する海上保安庁の無線航行陸上局（ディファレンシャルGPSによるもの）の名称	1 浜田      2 尻屋埼      3 金華山      4 酒田
[ 7 ] 印の に位置する海上保安庁の無線航行陸上局（ディファレンシャルGPSによるもの）の名称	1 大瀬崎      2 瀬戸      3 若宮      4 大浜
[ 8 ] 印の に位置する開港名	1 八戸      2 能代      3 宮古      4 釜石
[ 9 ] 印の に位置する開港名	1 石垣      2 細島      3 金武中城      4 平良
[ 10 ] の半島名	1 牡鹿半島      2 津軽半島      3 下北半島      4 男鹿半島

問 下図により、下表の左欄の事項のそれぞれに該当するものの名称を各右欄の語群から選び、その番号で答えよ。



事 項	語 群	
[11] 印の に位置する公衆通信業務を取り扱う 海岸局の名称	1 Suva Radio 3 Port Moresby Radio	2 Port-Vila Radio 4 Honiara Radio
[12] 印の に位置する公衆通信業務を取り扱う 海岸局の名称	1 Port-Vila Radio 3 Nauru Radio	2 Noumea Radio 4 Apia Radio
[13] 印の に位置する公衆通信業務を取り扱う 海岸局の名称	1 Jakarta Radio 3 Semarang Radio	2 Surabaya Radio 4 Balikpapan Radio
[14] 印の に位置する我が国の船舶の寄港地の 名称	1 Sydney 3 Brisbane	2 Darwin 4 Gladstone
[15] 印の に位置する我が国の船舶の寄港地の 名称	1 Wellington 3 Auckland	2 Napier 4 Hobart
[16] 印の に位置する我が国の船舶の寄港地の 名称	1 Esperance 3 Port Hedland	2 Darwin 4 Fremantle
[17] 印の に位置する我が国の船舶の寄港地の 名称	1 Darwin 3 Perth	2 Port Hedland 4 Townsville
[18] の国名	1 Republic of Nauru 3 Republic of the Fiji Islands	2 Solomon Islands 4 Republic of Vanuatu
[19] の海峡名	1 Torres Strait 3 Molucca Strait	2 Strait of Lombok 4 Makassar Strait
[20] の海名	1 Arafura Sea 3 Coral Sea	2 Solomon Sea 4 Tasman Sea

問 下図により、下表の左欄の事項のそれぞれに該当するものの名称を各右欄の語群から選び、その番号で答えよ。



事 項	語 群	
[21] 印の に位置する公衆通信業務を取り扱う海岸局の名称	1 Nha Trang Radio 3 Da Nang Radio	2 Hai Phong Radio 4 Ho Chi Minh-Ville Radio
[22] 印の に位置する公衆通信業務を取り扱う海岸局の名称	1 Yangon Radio 3 Bangkok Radio	2 Penang Radio 4 Kuching Radio
[23] 印の に位置する公衆通信業務を取り扱う海岸局の名称	1 Kota Kinabalu Radio 3 Belawan Radio	2 Sabang Radio 4 Penang Radio
[24] 印の に位置する公衆通信業務を取り扱う海岸局の名称	1 Chittagong Radio 3 Khulna Radio	2 Yangon Radio 4 Port Blair Radio
[25] 印の に位置する我が国の船舶の寄港地の名称	1 Kampong Saom 3 Phnom Penh	2 Bangkok 4 Ho Chi Minh
[26] 印の に位置する我が国の船舶の寄港地の名称	1 Singapore 3 Padang	2 Port Kelang 4 Palembang
[27] 印の に位置する我が国の船舶の寄港地の名称	1 Yangon 3 Khulna	2 Chittagong 4 Calcutta
[28] の国名	1 Kingdom of Cambodia 3 Socialist Republic of Viet Nam	2 Union of Myanmar 4 Lao People's Democratic Republic
[29] の海湾名	1 Gulf of Thailand 3 Java Sea	2 Bay of Bengal 4 Andaman Sea
[30] の海峡名	1 Sunda Strait 3 Molucca Strait	2 Karimata Strait 4 Strait of Malacca

問 次の問いに答えよ。

1 次表のA群のそれぞれの国の首都名をB群の都市から選び、その番号で答えよ。

A 群	B 群
[ 31 ] Malaysia	1 Phnom Penh      2 Kuala Lumpur 3 Yangon          4 Singapore
[ 32 ] United Arab Emirates	1 Abu Dhabi      2 Doha 3 Muscat          4 Amman
[ 33 ] Kingdom of the Netherlands	1 Rotterdam      2 Bruxelles 3 Amsterdam      4 Den Haag
[ 34 ] Republic of South Africa	1 Cape Town      2 Nairobi 3 Johannesburg    4 Pretoria
[ 35 ] Republic of Peru	1 Quito            2 Lima 3 Santiago        4 Lapaz

2 次表のA群のそれぞれの都市は、我が国の船舶の寄港地であるが、それぞれの所属国名を各B群から選び、その番号で答えよ。

A 群	B 群
[ 36 ] Davao	1 Republic of Indonesia 2 Malaysia 3 Republic of the Philippines 4 Independent State of Papua New Guinea
[ 37 ] Le Havre	1 French Republic 2 Kingdom of the Netherlands 3 Kingdom of Denmark 4 Spain
[ 38 ] Dakar	1 Republic of Senegal 2 Kingdom of Morocco 3 Democratic and People's Republic of Algeria 4 Federal Republic of Nigeria
[ 39 ] Long Beach	1 Commonwealth of Australia 2 Canada 3 Republic of the Fiji Islands 4 United States of America
[ 40 ] Santos	1 Republic of South Africa 2 Federative Republic of Brazil 3 United States of America 4 United Kingdom of Great Britain and Northern Ireland