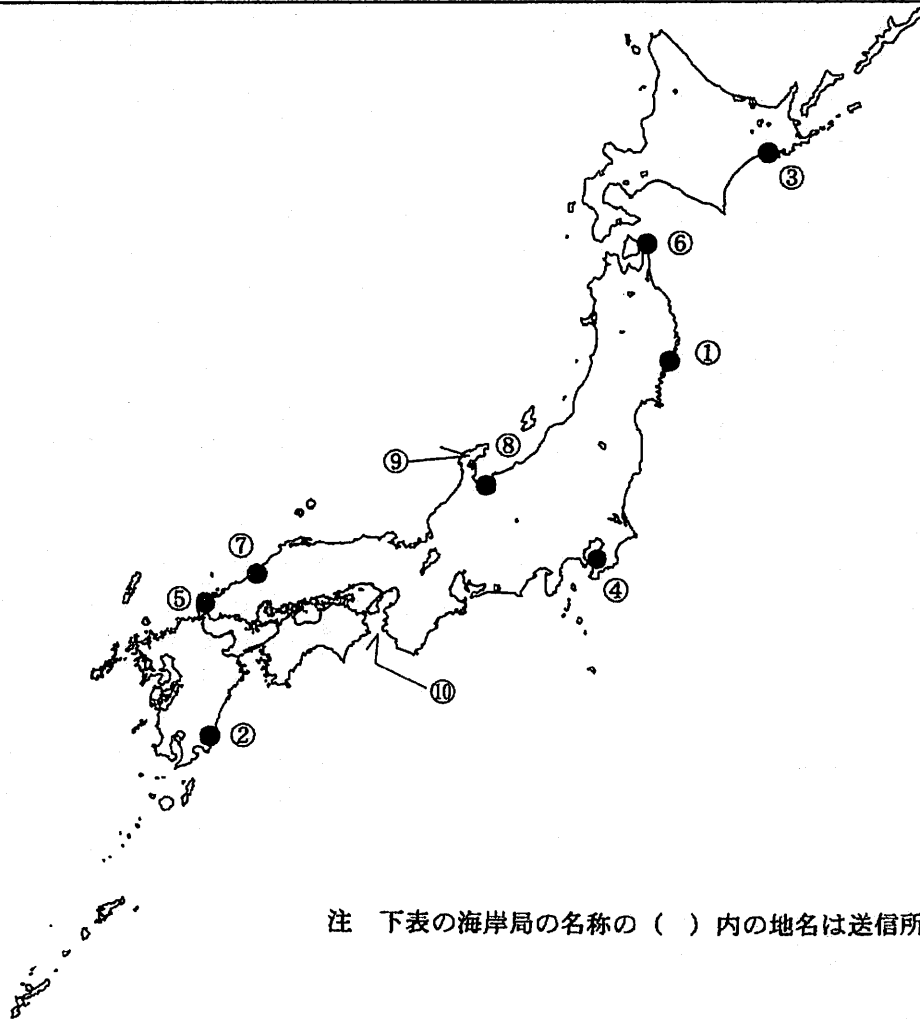


第一級総合無線通信士「地理」試験問題

40問 1時間

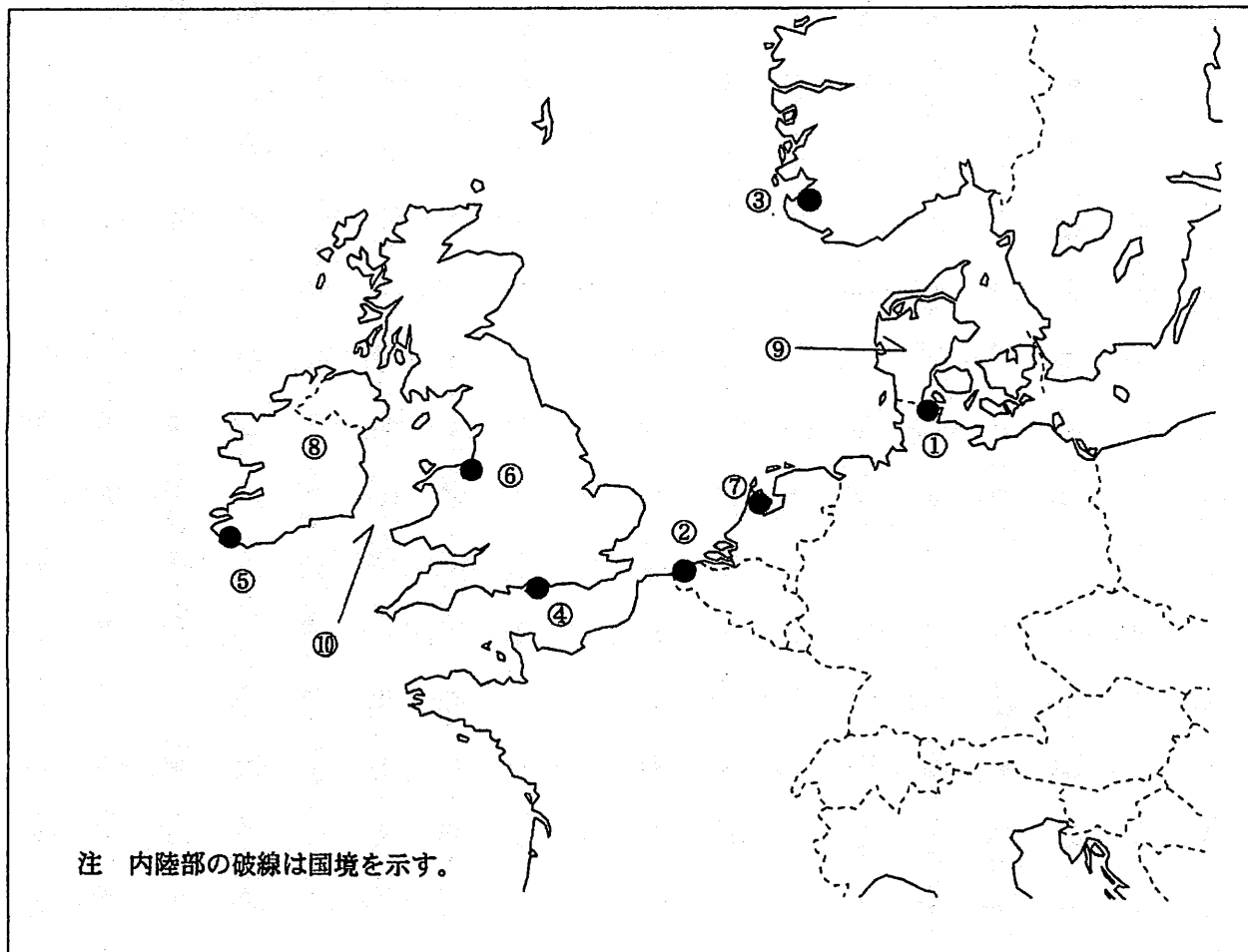
問I 下図により、下表の左欄の事項のそれぞれに該当するものの名称を右欄の語群から一つ選び、その番号で答えよ。



注 下表の海岸局の名称の（ ）内の地名は送信所の場所を示す。

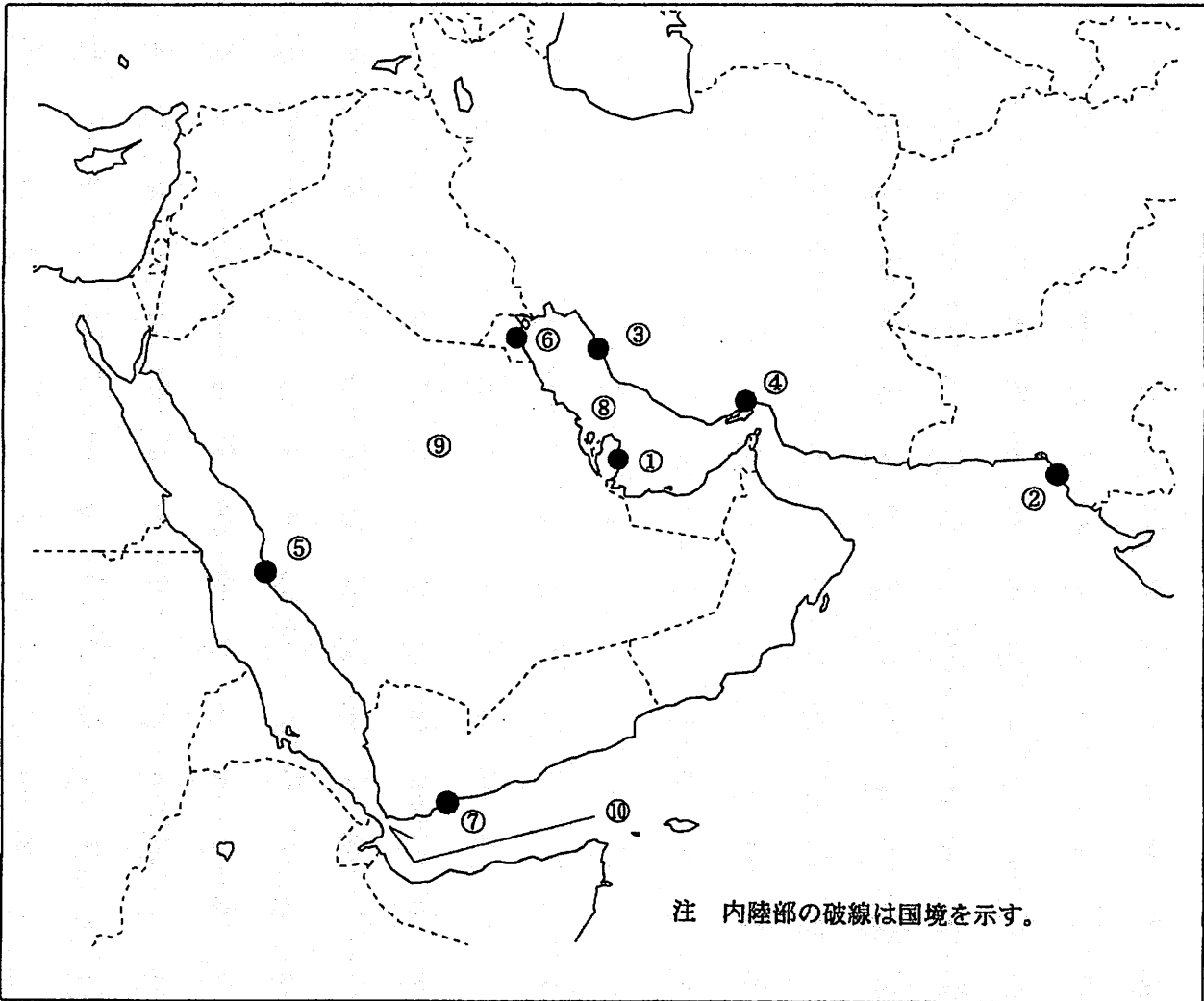
| 事 項 | 語 群 | | |
|--|-----------|------------|------------|
| [1] ●印の①に位置する海上保安庁の海岸局の名称 | 1 塩釜（釜石） | 2 塩釜（岩屋） | 3 塩釜（鉾） |
| [2] ●印の②に位置する海上保安庁の海岸局の名称 | 4 塩釜（温海） | 5 塩釜（駒ヶ峯） | |
| [3] ●印の③に位置するナブテックスで海上安全情報を送信する海上保安庁の海岸局の名称 | 1 鹿児島（大浦） | 2 鹿児島（名瀬） | 3 鹿児島（朝戸） |
| [4] ●印の④に位置するナブテックスで海上安全情報を送信する海上保安庁の海岸局の名称 | 4 鹿児島（油津） | 5 鹿児島（吉見山） | |
| [5] ●印の⑤に位置するナブテックスで海上安全情報を送信する海上保安庁の海岸局の名称 | 1 小樽（大野） | 2 小樽（羅臼） | 3 小樽（十町瀬） |
| [6] ●印の⑥に位置する海上保安庁の無線航行陸上局（ディファレンシャルGPSによるもの）の名称 | 4 小樽（積丹） | 5 小樽（萩ヶ岡） | |
| [7] ●印の⑦に位置する海上保安庁の無線航行陸上局（ディファレンシャルGPSによるもの）の名称 | 1 横浜（須崎） | 2 横浜（下田） | 3 横浜（白浜） |
| [8] ●印の⑧に位置する開港名 | 4 横浜（筑波） | 5 横浜（富津第2） | |
| [9] ⑨の半島名 | 1 門司（前原） | 2 門司（上県） | 3 門司（延行第2） |
| [10] ⑩の海峡又は水道名 | 4 広島（野呂） | 5 広島（嘉村第1） | |
| | 1 金華山 | 2 松前 | 3 大瀬崎 |
| | 4 尻屋崎 | 5 若宮 | |
| | 1 舩倉島 | 2 浜田 | 3 大浜 |
| | 4 江崎 | 5 酒田 | |
| | 1 敦賀 | 2 新潟 | 3 七尾 |
| | 4 金沢 | 5 伏木富山 | |
| | 1 丹後半島 | 2 能登半島 | 3 男鹿半島 |
| | 4 若松半島 | 5 西彼杵半島 | |
| | 1 鳴門海峡 | 2 明石海峡 | 3 来島海峡 |
| | 4 紀伊水道 | 5 豊後水道 | |

問Ⅱ 下図により、下表の左欄の事項のそれぞれに該当するものの名称を右欄の語群から一つ選び、その番号で答えよ。



| 事 項 | 語 群 | | |
|--|---|---|-------------------|
| [11] ●印の①に位置する公衆通信業務を取り扱う海岸局の名称 | 1 Florø Radio 4 Turku Radio | 2 Kiel Mail Radio 5 Vardo Radio | 3 Stockholm Radio |
| [12] ●印の②に位置する公衆通信業務を取り扱う海岸局の名称 | 1 Bern Radio 4 Oostende Radio | 2 Elbe-Weser Radio 5 Tallinn Radio | 3 Lyngby Radio |
| [13] ●印の③に位置するナブテックスで海上安全情報を送信する海岸局の名称 | 1 Bodo Radio 4 Pinneberg | 2 Grimeton 5 Netherlands Coast Guard Radio | 3 Rogaland Radio |
| [14] ●印の④に位置するナブテックスで海上安全情報を送信する海岸局の名称 | 1 Malin Head 4 Reykjavik Radio | 2 Niton 5 Tarifa | 3 Portpatrick |
| [15] ●印の⑤に位置するナブテックスで海上安全情報を送信する海岸局の名称 | 1 Cross Corcen 4 Monsanto Radio | 2 La Coruna 5 Valentia | 3 Horta Radio |
| [16] ●印の⑥に位置する我が国の船舶の寄港地の名称 | 1 Great Yarmouth 4 Southampton | 2 Liverpool 5 Weymouth | 3 Portsmouth |
| [17] ●印の⑦に位置する我が国の船舶の寄港地の名称 | 1 Amsterdam 4 Hamburg | 2 Brest 5 Le Havre | 3 Copenhagen |
| [18] ⑧の島名 | 1 Gotland 4 Lolland | 2 Iceland 5 Jersey | 3 Ireland |
| [19] ⑨の半島名 | 1 Bretagne 3 Cotentin 5 Kintyre | 2 Cornwall 4 Jylland | |
| [20] ⑩の海峡名 | 1 Bristol Ch. 3 North Ch. 5 Pailolo Ch. | 2 English Ch. 4 St. George's Ch. | |

問Ⅲ 下図により、下表の左欄の事項のそれぞれに該当するものの名称を右欄の語群から一つ選び、その番号で答えよ。



| 事 項 | 語 群 | | |
|---|---|---|--------------------|
| [21] ● 印の①に位置する公衆通信業務を取り扱う海岸局の名称 | 1 Djibouti Radio 4 Sajafi Radio | 2 Doha Radio 5 Salalah Radio | 3 Khassab Radio |
| [22] ● 印の②に位置する公衆通信業務を取り扱う海岸局の名称 | 1 AlAshkara Radio 4 Karachi Radio | 2 Duba Radio 5 Turkaman Radio | 3 Muscat Radio |
| [23] ● 印の③に位置するナブテックスで海上安全情報を送信する海岸局の名称 | 1 Busherhr 4 Cullercoats | 2 Kosseir 5 Serapeum(Ismailia) | 3 Duba Radio |
| [24] ● 印の④に位置するナブテックスで海上安全情報を送信する海岸局の名称 | 1 Abadan Radio 4 Walvis Bay | 2 Abbas Radio 5 Mauritius Radio, Cassis | 3 Hamala Radio |
| [25] ● 印の⑤に位置するナブテックスで海上安全情報を送信する海岸局の名称 | 1 Kerkyra 4 Limnos | 2 Cagliari 5 Khorramshahr Radio | 3 Jeddah |
| [26] ● 印の⑥に位置する我が国の船舶の寄港地の名称 | 1 Abu Dhabi 4 Mocha | 2 Aqaba 5 Trincomalee | 3 Kuwait |
| [27] ● 印の⑦に位置する我が国の船舶の寄港地の名称 | 1 Aden 4 Goa | 2 Antalya 5 Mogadishu | 3 Dubayy |
| [28] ⑧の湾名 | 1 Gulf of Kachchh 4 Gulf of Oman | 2 Gulf of Khambat 5 Persian Gulf | 3 Gulf of Martaban |
| [29] ⑨の国名 | 1 Republic of Botswana 3 Republic of Turkey 5 Hashemite Kingdom of Jordan | 2 Republic of Iraq 4 Kingdom of Saudi Arabia | |
| [30] ⑩の海峡名 | 1 Bab al Mandab 3 Dardanelles 5 Skagerrak | 2 Bosphorus 4 Kattegat | |

問Ⅳ 次の問いに答えよ。

- 1 次表のA群のそれぞれの都市は、我が国の船舶の寄港地であるが、それぞれの所属国名をB群から一つ選び、その番号で答えよ。

| A 群 | B 群 |
|----------------|--|
| [31] Davao | 1 Republic of Indonesia 2 Malaysia 3 Republic of Palau 4 Republic of the Philippines 5 Independent State of Papua New Guinea |
| [32] Colombo | 1 Brunei Darussalam 2 Islamic Republic of Pakistan 3 India 4 Socialist Republic of Viet Nam 5 Democratic Socialist Republic of Sri Lanka |
| [33] Port Said | 1 Arab Republic of Egypt 2 United Arab Emirates 3 Kingdom of Bahrain 4 The Republic of the Sudan 5 State of Qatar |
| [34] Barcelona | 1 French Republic 2 Republic of Italy 3 Hellenic Republic 4 Portuguese Republic 5 Spain |
| [35] Auckland | 1 Australia 2 Canada 3 Ireland 4 New Zealand 5 United Kingdom of Great Britain and Northern Ireland |

- 2 次表の左欄のそれぞれの事項に該当するものの名称を右欄の語群から一つ選び、その番号で答えよ。

| 事 項 | 語 群 |
|---|---|
| [36] 中国の東北地区、遼寧省の港湾都市。 遼東半島の南部に位置し、黄海に臨む東北地区最大の港があり、シベリア鉄道に接続する鉄道の拠点でもある。 造船、鉄鋼などの重工業が発達している。 | 1 Dalian (大連) 2 Haikou (海口) 3 Macau (澳門) 4 Shanghai (上海) 5 Qingdao (青島) |
| [37] インドネシアの中核をなす島。 スマトラ島の東南部に隣接し、島の東西に山脈が連なり、活火山が多い。 ジャカルタ、スラバヤなどの良港が多く分布している。 | 1 Bali 2 Jawa 3 Lombok 4 Sulawesi 5 Kalimantan(Borneo) |
| [38] アメリカ領の島。 ミクロネシアのマリアナ諸島最南端に位置し、ミクロネシア最大の島であり、航空路の要衝で行政や経済の中心でもある。 日本からの観光客も多い。 | 1 Yap 2 Rota 3 Tinian 4 Guam 5 Hawaii |
| [39] 中央アメリカ南部の共和国。 東はコロンビア、西はコスタリカに接し、太平洋とカリブ海とを結ぶ運河がある。 リベリアなどと並び世界有数の船舶の登録国でもある。 | 1 Republic of Haiti 2 Republic of Panama 3 Republic of Nicaragua 4 Republic of Colombia 5 Republic of Guatemala |
| [40] 五大湖と大西洋を結ぶ水路。 1959年にアメリカ合衆国とカナダの共同事業として完成した。 この水路により1万トン級の外洋船舶が五大湖沿岸の諸都市まで航行できるようになった。 | 1 Royal Canal 2 Caledonia Canal 3 St. Lawrence Sea Way 4 New York State Barge 5 Chesapeake and Delaware |