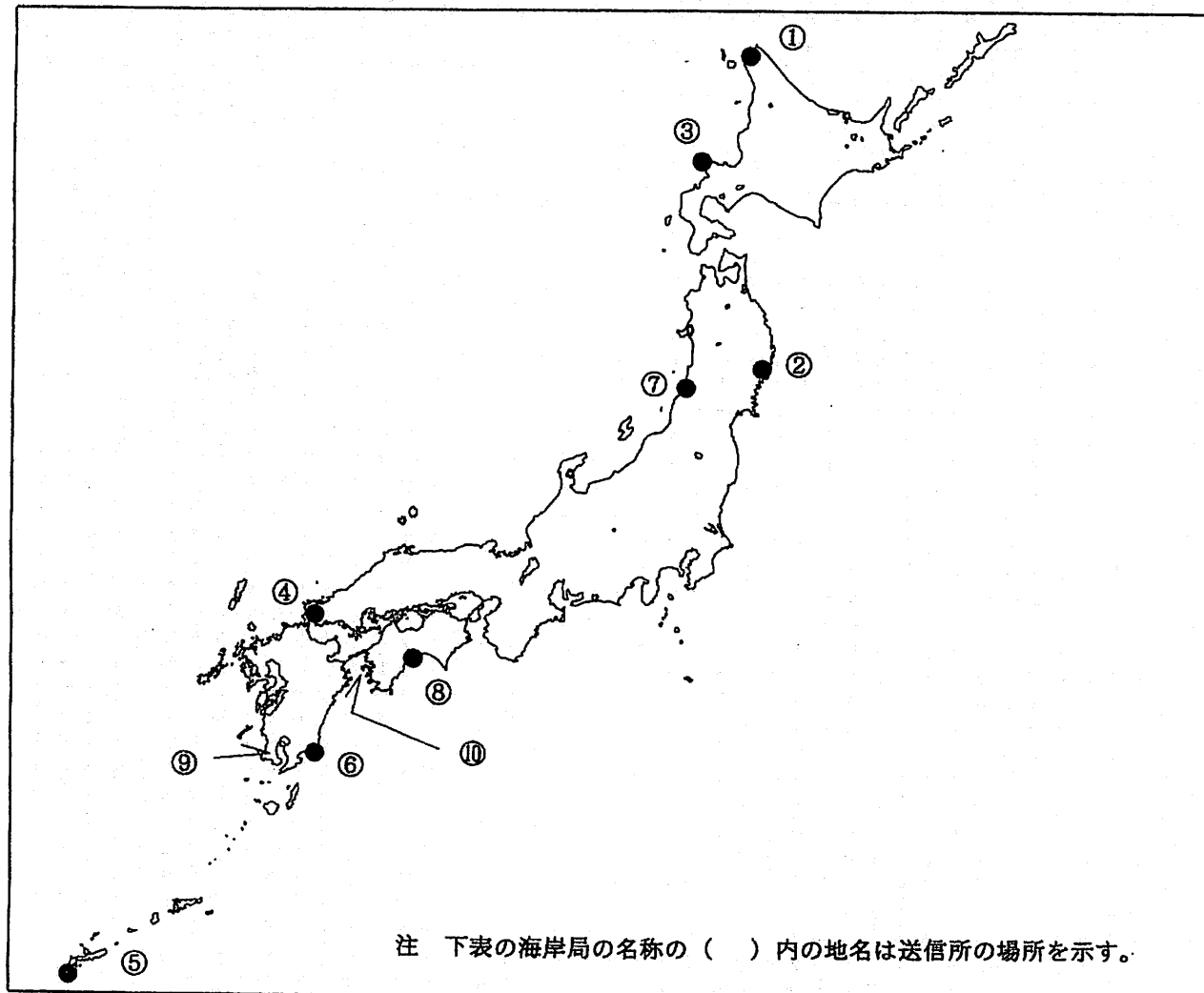


第一級総合無線通信士「地理」試験問題

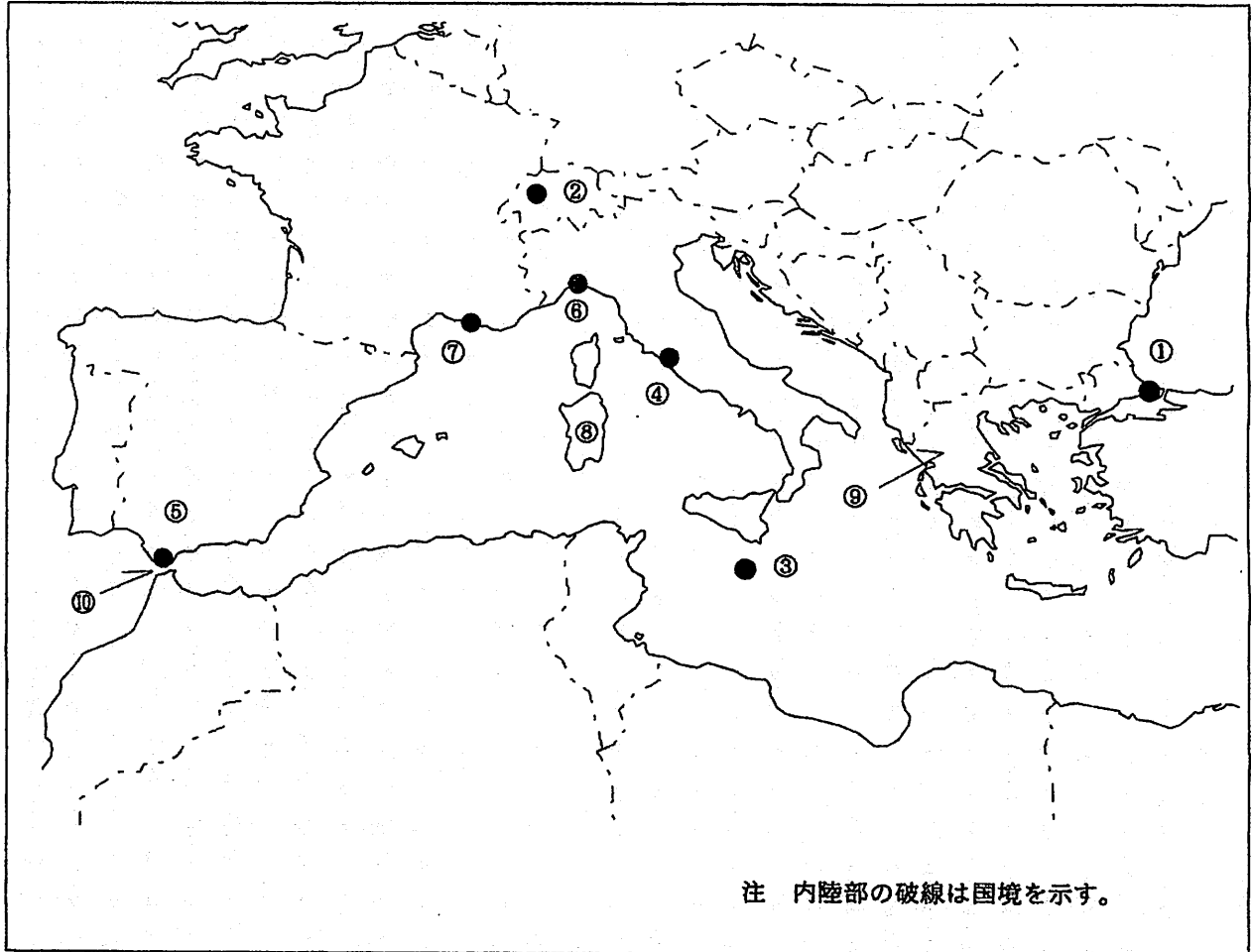
40問 1時間

問I 下図により、下表の左欄の事項のそれぞれに該当するものの名称を右欄の語群から一つ選び、その番号で答えよ。



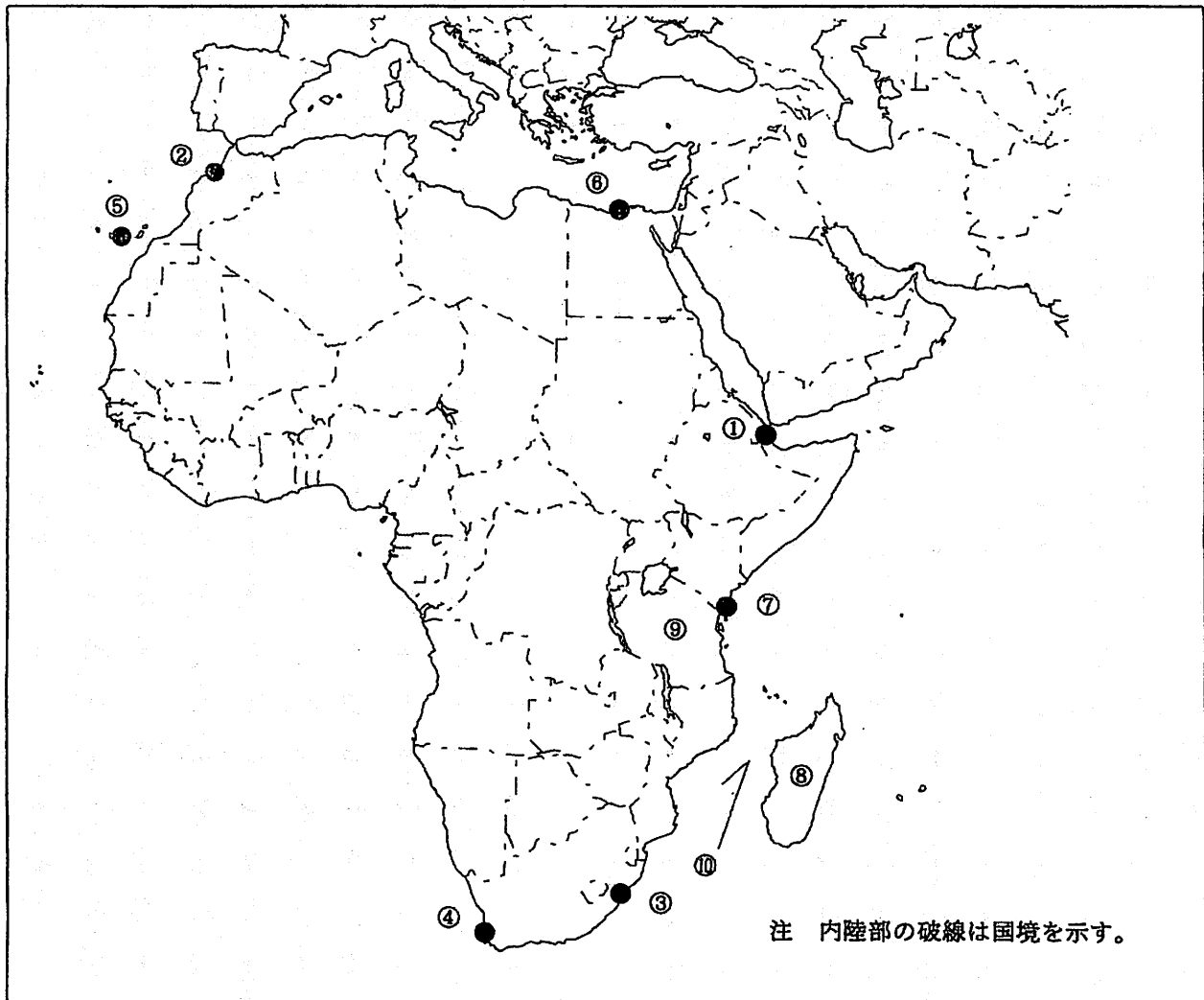
事 項	語 群		
[1] ●印の①に位置する海上保安庁の海岸局の名称	1 小樽 (昆布森)	2 小樽 (稲穂)	3 小樽 (萩ヶ岡)
	4 小樽 (大野)	5 小樽 (積丹)	
[2] ●印の②に位置する海上保安庁の海岸局の名称	1 塩釜 (男鹿)	2 塩釜 (釜石)	3 塩釜 (鉾)
	4 塩釜 (小泊)	5 塩釜 (温海)	
[3] ●印の③に位置するナブテックスで海上安全情報を送信する海上保安庁の海岸局の名称	1 小樽 (十町瀬)	2 小樽 (積丹第2)	3 小樽 (羅臼)
	4 小樽 (歌島)	5 小樽 (上厚内)	
[4] ●印の④に位置するナブテックスで海上安全情報を送信する海上保安庁の海岸局の名称	1 広島 (嘉納第1)	2 広島 (五色台)	3 門司 (隠蔵寺)
	4 門司 (延行第2)	5 門司 (前原)	
[5] ●印の⑤に位置するナブテックスで海上安全情報を送信する海上保安庁の海岸局の名称	1 鹿児島 (名瀬)	2 鹿児島 (中之島)	3 那覇 (多野)
	4 那覇 (宮良)	5 那覇 (喜屋武)	
[6] ●印の⑥に位置する海上保安庁の無線航行陸上局 (ディファレンシャルGPSによるもの)の名称	1 若宮	2 大浜	3 瀬戸
	4 都井岬	5 大瀬崎	
[7] ●印の⑦に位置する海上保安庁の無線航行陸上局 (ディファレンシャルGPSによるもの)の名称	1 丹後	2 浜田	3 酒田
	4 金華山	5 舩倉島	
[8] ●印の⑧に位置する開港名	1 松山	2 今治	3 高知
	4 三島川之江	5 徳島小松島	
[9] ⑨の半島名	1 薩摩半島	2 高縄半島	3 大隅半島
	4 国東半島	5 島原半島	
[10] ⑩の海峡又は水道名	1 明石海峡	2 平瀬海峡	3 豊後水道
	4 飯防之瀬水道	5 紀伊水道	

問Ⅱ 下図により、下表の左欄の事項のそれぞれに該当するものの名称を右欄の語群から一つ選び、その番号で答えよ。



事 項	語 群		
[11] ●印の①に位置する公衆通信業務を取り扱う海岸局の名称	1 Alger Radio 4 Limnos Radio	2 Antalya Turk Radio 5 Puros Radio	3 Istanbul Turk Radio
[12] ●印の②に位置する公衆通信業務を取り扱う海岸局の名称	1 Bodo Radio 4 Olympia Radio	2 Bern Radio 5 Tallinn Radio	3 Lyngby Radio
[13] ●印の③に位置するナブテックスで海上安全情報を送信する海岸局の名称	1 Irakleio 4 Malta	2 Cyprus Radio 5 Trieste	3 Varna Radio
[14] ●印の④に位置するナブテックスで海上安全情報を送信する海岸局の名称	1 Augusta 4 Horta Radio	2 Cross La Garde 5 Roma	3 Haifa
[15] ●印の⑤に位置するナブテックスで海上安全情報を送信する海岸局の名称	1 Izmir 4 Tarifa	2 Vardoe Radio 5 Valentia	3 Sao Vicente Radio
[16] ●印の⑥に位置する我が国の船舶の寄港地の名称	1 Genova 4 Palma	2 Dubrovnik 5 Valencia	3 Napoli
[17] ●印の⑦に位置する我が国の船舶の寄港地の名称	1 Barcelona 4 Marseille	2 Le Havre 5 Venezia	3 Lisbon
[18] ⑧の島名	1 Corse 4 Sicilia	2 Cyprus 5 Sardegna	3 Kriti
[19] ⑨の半島名	1 Balkan Pen. 3 Iberian Pen. 5 Scandinavian Pen.	2 Bretagne 4 Jylland	
[20] ⑩の海峡名	1 Str. of Gibraltar 3 Str. of Dover 5 Davis Str.	2 Str. of Messina 4 Str. of Otranto	

問Ⅲ 下図により、下表の左欄の事項のそれぞれに該当するものの名称を右欄の語群から一つ選び、その番号で答えよ。



事 項	語 群		
[21] ●印の①に位置する公衆通信業務を取り扱う海岸局の名称	1 Benghazi Radio 4 Jeddah Radio	2 Douala Radio 5 Seychelles Radio	3 Djibouti Radio
[22] ●印の②に位置する公衆通信業務を取り扱う海岸局の名称	1 Banana Radio 4 Kouakro Radio	2 Casablanca Radio 5 Luderitz Radio	3 Grand Lahou Radio
[23] ●印の③に位置するナブテックスで海上安全情報を送信する海岸局の名称	1 Durban Radio 4 Walvis Bay	2 Horta Radio 5 Mauritius Radio, Cassis	3 Safi Radio
[24] ●印の④に位置するナブテックスで海上安全情報を送信する海岸局の名称	1 Cape Town Radio 4 Portpatrick	2 Malin Head 5 Sao Vicente Radio	3 Niton
[25] ●印の⑤に位置するナブテックスで海上安全情報を送信する海岸局の名称	1 Bodo Radio 4 Monsanto Radio	2 Kosseir 5 Split(Hvar Island)	3 Las Palmas
[26] ●印の⑥に位置する我が国の船舶の寄港地の名称	1 Alexandria 4 Tunis	2 Oran 5 Tripoli	3 Pireas
[27] ●印の⑦に位置する我が国の船舶の寄港地の名称	1 Dakar 4 Lagos	2 Mogadishu 5 Port Elizabeth	3 Mombasa
[28] ③の島名	1 Gran Canaria 4 Principe	2 Mallorca 5 Sao Tome	3 Madagascar
[29] ⑨の国名	1 Republic of Botswana 2 Republic of Somalia 3 Republic of Liberia 4 United Republic of Tanzania 5 People's Democratic Republic of Algeria		
[30] ⑩の海峡名	1 Bristol Ch. 2 St. George's Ch. 3 North Ch. 4 Mozambique Ch. 5 Ten Degree Ch.		

問Ⅳ 次の問いに答えよ。

1 次表のA群のそれぞれの都市は、我が国の船舶の寄港地であるが、それぞれの所属国名をB群から一つ選び、その番号で答えよ。

A 群	B 群
[31] Surabaya	1 Republic of the Philippines 2 Republic of Indonesia 3 Republic of Palau 4 Malaysia 5 Federated States of Micronesia
[32] Chennai(Madras)	1 Islamic Republic of Pakistan 2 India 3 Brunei Darussalam 4 Republic of the Union of Myanmar 5 Democratic Socialist Republic of Sri Lanka
[33] Abu Dhabi	1 United Arab Emirates 2 Sultanate of Oman 3 Kingdom of Bahrain 4 Kingdom of Saudi Arabia 5 State of Kuwait
[34] Hamburg	1 Kingdom of the Netherlands 2 Kingdom of Belgium 3 Federal Republic of Germany 4 French Republic 5 United Kingdom of Great Britain and Northern Ireland
[35] Sydney	1 Australia 2 Canada 3 New Zealand 4 Ireland 5 United States of America

2 次表の左欄のそれぞれの事項に該当するものの名称を右欄の語群から一つ選び、その番号で答えよ。

事 項	語 群
[36] 中国、華東地区北部の中央直轄都市。 長江デルタに位置する港湾・商業都市であり、内港と外港の二つからなる港は、世界最大級の港の一つである。 造船業が発達し、大学や専門学校などの教育機関も多い。	1 Macau (澳門) 2 Haikou (海口) 3 Shanghai (上海) 4 Qingdao (青島) 5 Dalian (大連)
[37] フィリピン北部の島。 海岸線が複雑でマニラ、サンフェルナンドなど良港が多く分布している。 マニラ湾及びリンガエン湾の周辺地域と両者を結ぶ平野部は政治・経済の中心地域となっている。	1 Leyte 2 Luzon 3 Mindanao 4 Mindoro 5 Palawan
[38] インドネシアのジャワ島とスマトラ島を隔て、ジャワ海とインド洋とを結ぶ海峡。 近年、船舶の交通量が増加しているマラッカ海峡の迂回路として注目を集めている。	1 Alas Str. 2 Bali Str. 3 Sunda Str. 4 Madura Str. 5 Palk Str.
[39] 南アメリカの南東部の連邦制の共和国。 首都を中心とした半径約 600km の地域にパンパと呼ばれる半乾燥の平野が広がっている。 大西洋に臨みブエノスアイレスやマルデルプラタなどの良港が分布している。	1 Argentine Republic 2 Federative Republic of Brazil 3 Oriental Republic of Uruguay 4 Republic of Peru 5 Republic of Colombia
[40] オーストラリアの北方に位置する太平洋西部の島。 島の東半分は独立国であるが、西半分はインドネシア領のイリアンジャヤ州となっている。 島の南東部に港湾都市であるポートモレスビーがある。	1 Jawa 2 New Guinea 3 Sulawesi 4 Tahiti 5 Timor