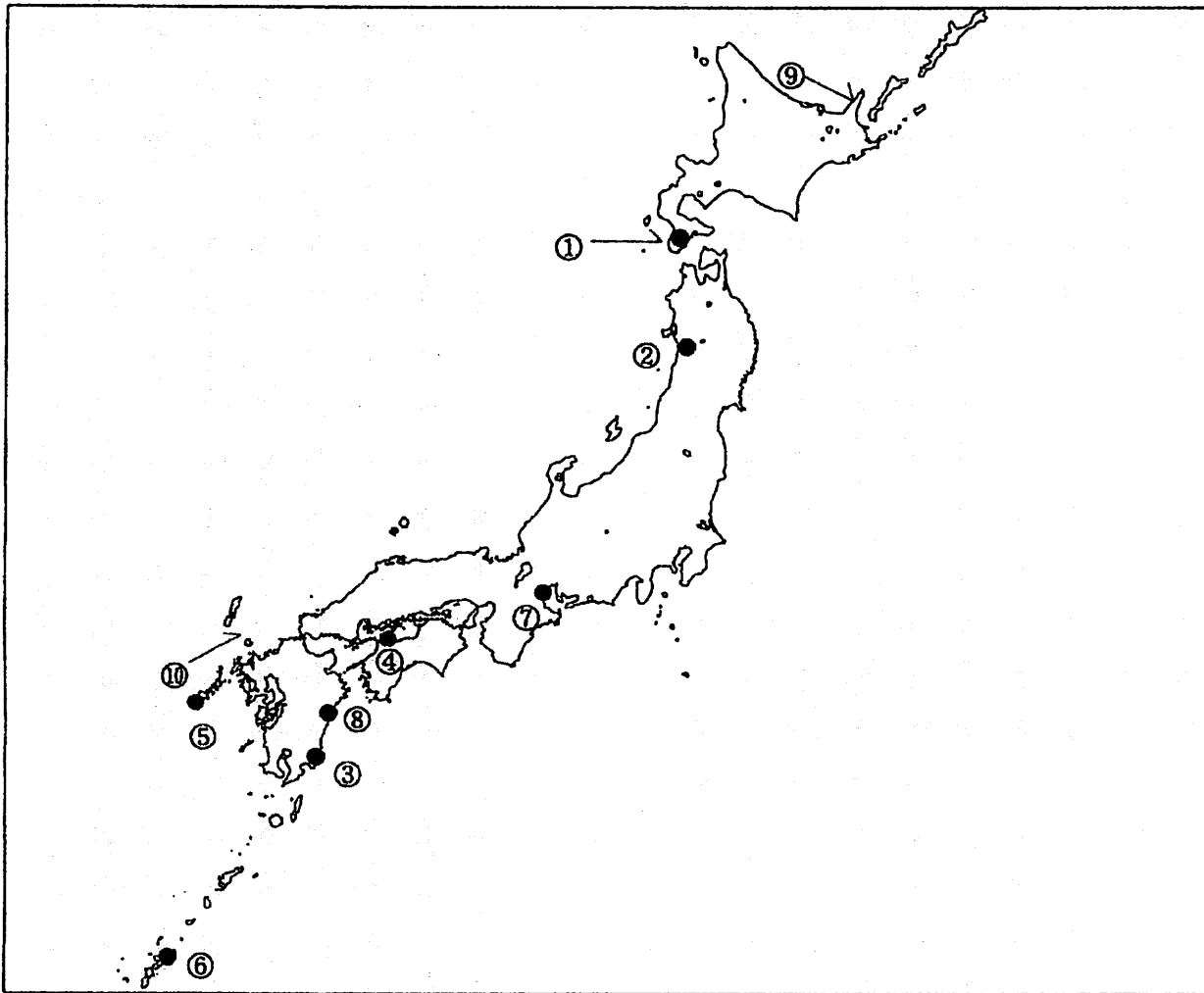


第一級総合無線通信士「地理」試験問題

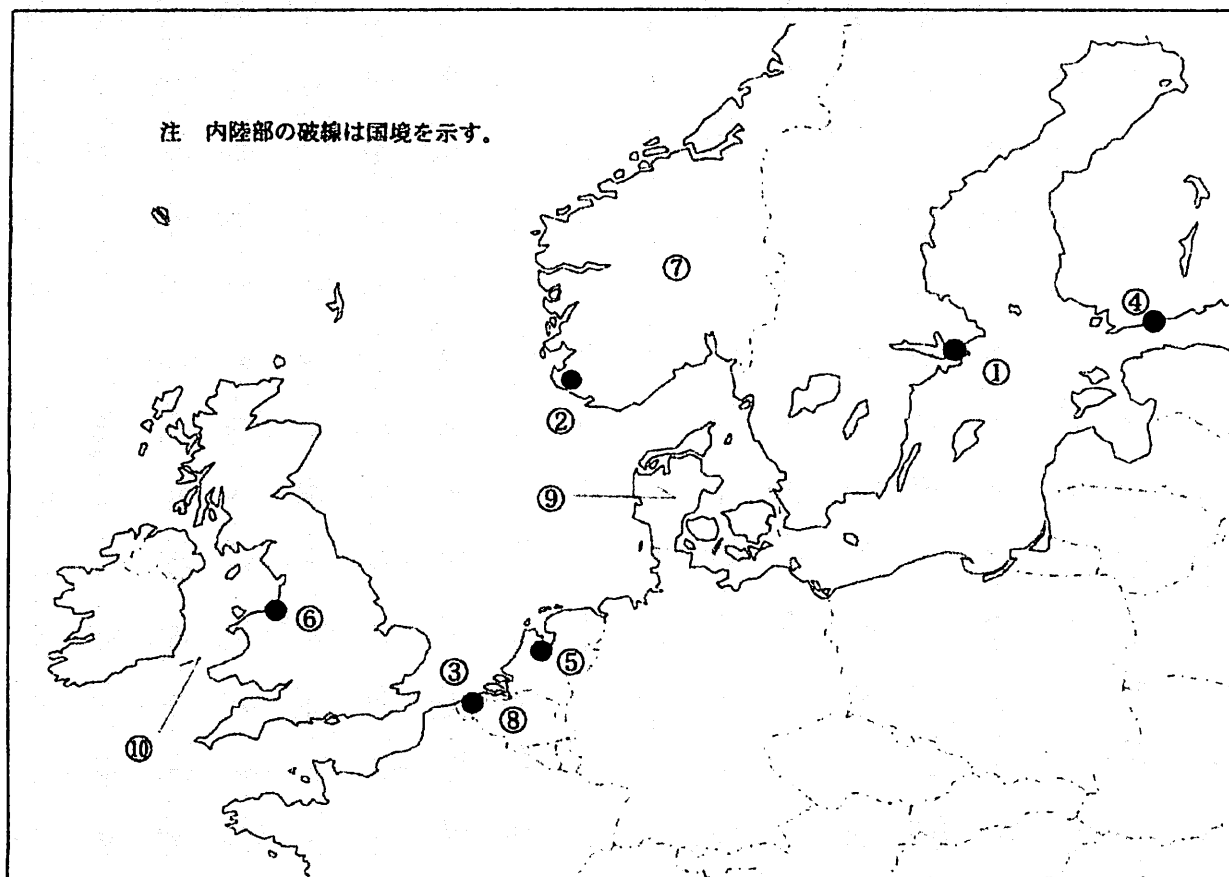
40問 1時間

問1 下図により、下表の左欄の事項のそれぞれに該当するものの名称を右欄の語群から一つ選び、その番号で答えよ。



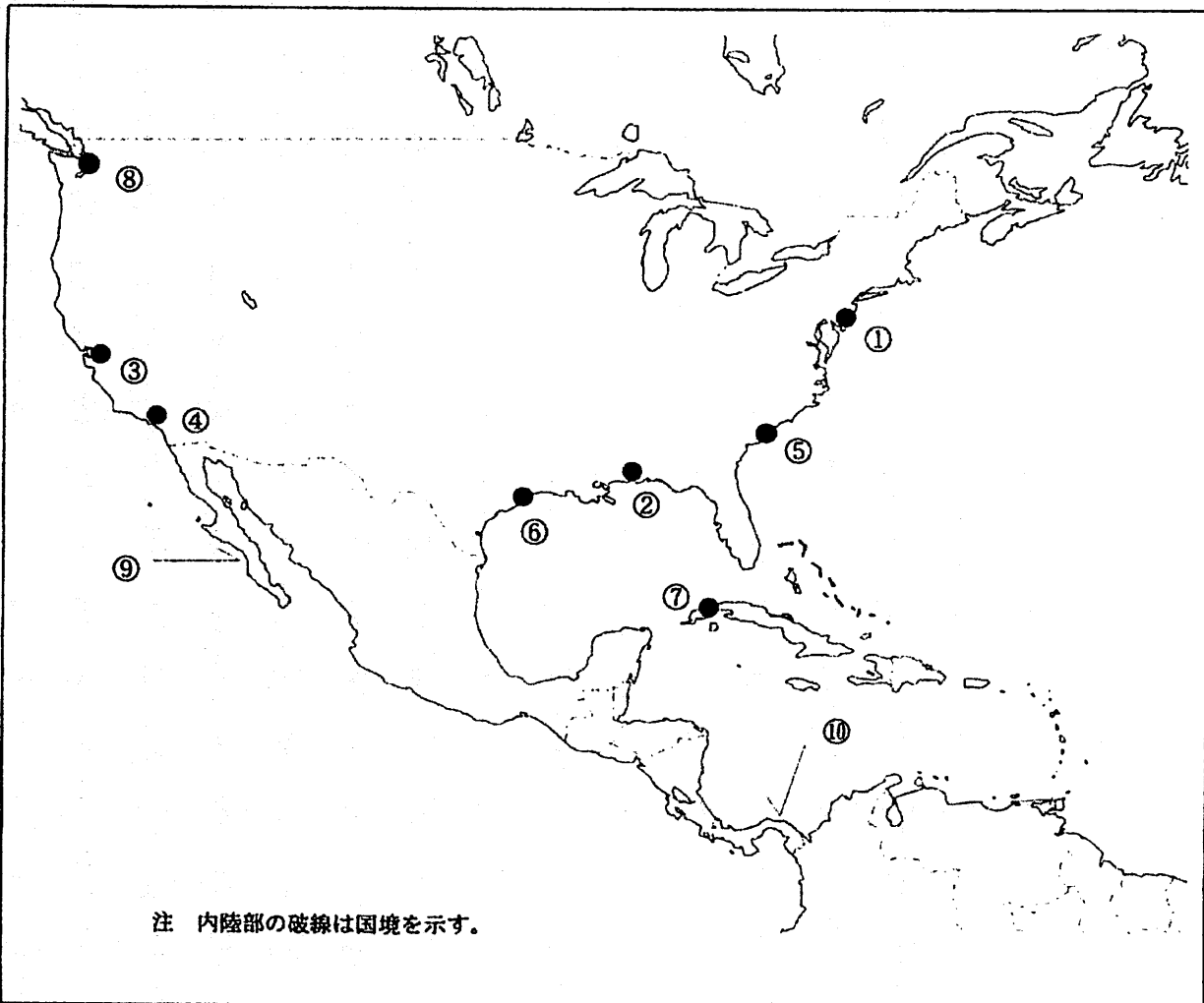
事 項	語 群		
[1] ●印の①に位置する海上保安庁の海岸局の名称 注 () 内の地名は送信所の場所を示す。以下同じ。	1 小樽 (秋ヶ岡)	2 小樽 (積丹)	3 小樽 (大野)
[2] ●印の②に位置する海上保安庁の海岸局の名称	4 小樽 (昆布森)	5 小樽 (羅臼)	
[3] ●印の③に位置する海上保安庁の海岸局の名称	1 塩釜 (鮎)	2 塩釜 (秋田)	3 塩釜 (釜石)
[4] ●印の④に位置する海上保安庁の無線航行陸上局 (レーダーによるもの) の名称	4 塩釜 (响ヶ峯)	5 塩釜 (神楽)	
[5] ●印の⑤に位置する海上保安庁の無線航行陸上局 (ディファレンシャルGPSによるもの) の名称	1 鹿児島 (油津)	2 鹿児島 (吉見山)	3 鹿児島 (名瀬)
[6] ●印の⑥に位置する海上保安庁の無線航行陸上局 (ディファレンシャルGPSによるもの) の名称	4 鹿児島 (大浦)	5 鹿児島 (朝戸)	
[7] ●印の⑦に位置する開港名	1 江崎	2 本牧	3 青ノ山
[8] ●印の⑧に位置する開港名	4 今治	5 伊良湖岬	
[9] ⑨の半島名	1 鯉崎	2 大王崎	3 瀬戸
[10] ⑩の海峡又は水道名	4 大瀬崎	5 若宮	
	1 宮古島	2 慶佐次	3 大浜
	4 都井岬	5 瀬戸	
	1 清水	2 田子の浦	3 田辺
	4 衣浦	5 四日市	
	1 三池	2 唐津	3 細島
	4 伊万里	5 三角	
	1 亀田半島	2 根室半島	3 野付半島
	4 知床半島	5 松前半島	
	1 対馬海峡	2 長島海峡	3 飯舘之瀬水道
	4 友ヶ島水道	5 老岐水道	

問Ⅱ 下図により、下表の左欄の事項のそれぞれに該当するものの名称を右欄の語群から一つ選び、その番号で答えよ。



事 項	語 群		
[11] ●印の①に位置する公衆通信業務を取り扱う海岸局の名称	1 Stockholm Radio 4 Oban Radio	2 Rogaland Radio 5 Vardo Radio	3 Turku Radio
[12] ●印の②に位置する公衆通信業務を取り扱う海岸局の名称	1 Tallinn Radio 4 Lyngby Radio	2 Rogaland Radio 5 Anglesey Radio	3 Hamburg Radio
[13] ●印の③に位置する公衆通信業務を取り扱う海岸局の名称	1 Arestal Radio 4 Niton Radio	2 Cullercoats Radio 5 Stonehaven Radio	3 Oostende Radio
[14] ●印の④に位置する我が国の船舶の寄港地の名称	1 Oslo 4 Riga	2 Helsinki 5 Amsterdam	3 Tallinn
[15] ●印の⑤に位置する我が国の船舶の寄港地の名称	1 Brest 4 Hamburg	2 Dublin 5 Amsterdam	3 Le Havre
[16] ●印の⑥に位置する我が国の船舶の寄港地の名称	1 Southampton 4 Portsmouth	2 Great Yarmouth 5 Liverpool	3 Cardigan
[17] ⑦の国名	1 Kingdom of the Netherlands 3 Kingdom of Norway 5 Kingdom of Sweden	2 Republic of Estonia 4 Republic of Finland	
[18] ⑧の国名	1 Kingdom of Belgium 3 French Republic 5 Grand Duchy of Luxembourg	2 Republic of Austria 4 Federal Republic of Germany	
[19] ⑨の半島名	1 Istra 3 Bretagne 5 Jylland(Jutland)	2 Kintyre 4 Cornwall	
[20] ⑩の海峡名	1 Strait of Otranto 3 Strait of Dover 5 English Channel	2 North Channel 4 St. George's Channel	

問Ⅲ 下図より、下表の左欄の事項のそれぞれに該当するものの名称を右欄の語群から一つ選び、その番号で答えよ。



事 項	語 群		
[21] ●印の①に位置する公衆通信業務を取り扱う海岸局の名称	1 Tbrs Cove Radio	2 Tuckerton, New Jersey Radio	
	3 S. John's Coast Guard Radio	4 Rogers City, Michigan Radio	
	5 Halifax Coast Guard Radio		
[22] ●印の②に位置する公衆通信業務を取り扱う海岸局の名称	1 Freeland, Washington Radio	2 Jeffersonville, Indiana Radio	
	3 New York, New York Radio	4 Mobile, Alabama Radio	
	5 South Chatham, Massachusetts Radio		
[23] ●印の③に位置する公衆通信業務を取り扱う海岸局の名称	1 Salina Cruz, Oaxaca Radio	2 Seattle, Washington Radio	
	3 Acapulco, Guerrero Radio	4 Mazatlan, Sinaloa Radio	
	5 S. Francisco, California Radio		
[24] ●印の④に位置する海岸地球局の名称	1 Staten Island	2 Raisting	3 Santa Paula
	4 Southbury	5 Goonhilly	
[25] ●印の⑤に位置する我が国の船舶の寄港地の名称	1 Charleston	2 Oakland	3 Portsmouth
	4 Eureka	5 Carrabelle	
[26] ●印の⑥に位置する我が国の船舶の寄港地の名称	1 Savannah	2 Norfolk	3 Matamoros
	4 Wilmington	5 Galveston	
[27] ●印の⑦に位置する我が国の船舶の寄港地の名称	1 Santo Domingo	2 Havana	3 San Juan
	4 Port of Spain	5 Georgetown	
[28] ●印の⑧に位置する我が国の船舶の寄港地の名称	1 Portland	2 Sitka	3 Los Angeles
	4 San Francisco	5 Seattle	
[29] ⑨の半島名	1 California Pen.	2 Nova Scotia Pen.	3 Bruce Pen.
	4 Yucatan Pen.	5 Kenai Pen.	
[30] ⑩の国名	1 United Mexican States	2 Republic of Nicaragua	3 Republic of Ecuador
	4 Republic of Panama	5 Republic of Guyana	

問Ⅳ 次の問いに答えよ。

1 次表のA群のそれぞれの都市は、我が国の船舶の寄港地であるが、それぞれの所属国名をB群から一つ選び、その番号で答えよ。

A 群	B 群
[31] Davao	1 Republic of Indonesia 2 Papua New Guinea 3 Republic of Vanuatu 4 Republic of the Philippines 5 Malaysia
[32] Fremantle	1 Independent State of Samoa 2 Australia 3 Republic of Nauru 4 Republic of the Marshall Islands 5 New Zealand
[33] Odesa	1 Russia 2 Kingdom of Belgium 3 French Republic 4 Republic of Armenia 5 Ukraine
[34] Alexandria	1 Kingdom of Morocco 2 People's Democratic Republic of Algeria 3 Republic of Tunisia 4 Arab Republic of Egypt 5 Great Socialist People's Libyan Arab Jamahiriya
[35] Valparaiso	1 Republic of Chile 2 Republic of Ecuador 3 Republic of Peru 4 Bolivarian Republic of Venezuela 5 Republic of Colombia

2 次表の左欄のそれぞれの事項に該当するものの名称を右欄の語群から一つ選び、その番号で答えよ。

事 項	語 群
[36] アフリカ東部の共和国で首都はナイロビ。 東はソマリア、西はウガンダに接し、南東はインド洋に臨む。西部にビクトリア湖がある。 綿花、コーヒー、砂糖、サイザル麻などを栽培し、石油を試掘中。	1 Federal Democratic Republic of Ethiopia 2 United Republic of Tanzania 3 Republic of Mozambique 4 Republic of Kenya 5 State of Eritrea
[37] 韓国北西部の港湾都市で製鉄、製粉、板ガラスの工場などが立地。 1876年の開港以来、京畿、忠清、黄海の3道を背域に、首都に近い貿易港として成長してきた。港域の前面に小島、湾口に大小の島々が並列して天然の良港を形成。	1 Busan (釜山) 2 Mokpo (木浦) 3 Gunsan (群山) 4 Incheon (仁川) 5 Ulsan (蔚山)
[38] カリマンタン (ボルネオ) 島北西部の王国。 1984年英国から独立。首都はバンドルシリブガワン (Bandar Seri Begawan)。石油、天然ガスが豊富に産出され、我が国へも輸出している。また、ゴムやヤシの栽培も盛ん。	1 The Democratic Republic of Timor-Leste 2 Republic of Indonesia 3 Brunei Darussalam 4 Republic of Maldives 5 Malaysia
[39] イタリア半島とバルカン半島との間の地中海の支湾で長さは約800キロメートル。 海岸線はイタリア半島側は単調であるが、バルカン半島側は複雑で、かつ、島が多い。 沿岸は温和な気候。	1 Marmara Denizi 2 Tyrrhenian Sea 3 Adriatic Sea 4 Aegean Sea 5 Black Sea
[40] 五大湖と大西洋を結ぶ水路。 1959年にアメリカ合衆国とカナダの共同事業として完成した。この水路により1万トン級の外洋船舶が五大湖沿岸の諸都市まで航行可能となった。	1 Chesapeake and Delaware 2 St. Lawrence Sea Way 3 New York State Barge 4 Caledonia Canal 5 Kiel Canal