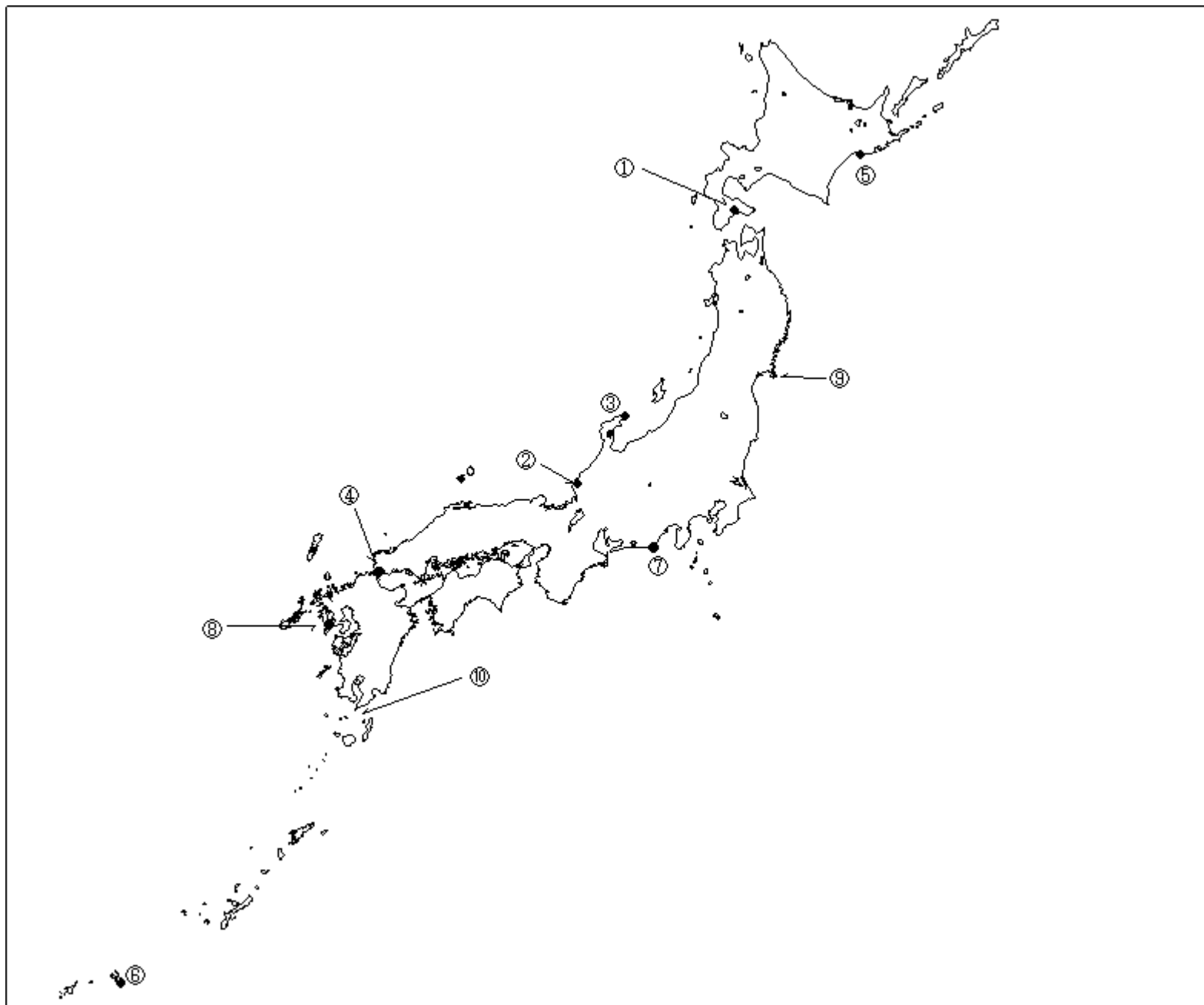


第一級総合無線通信士「地理」試験問題

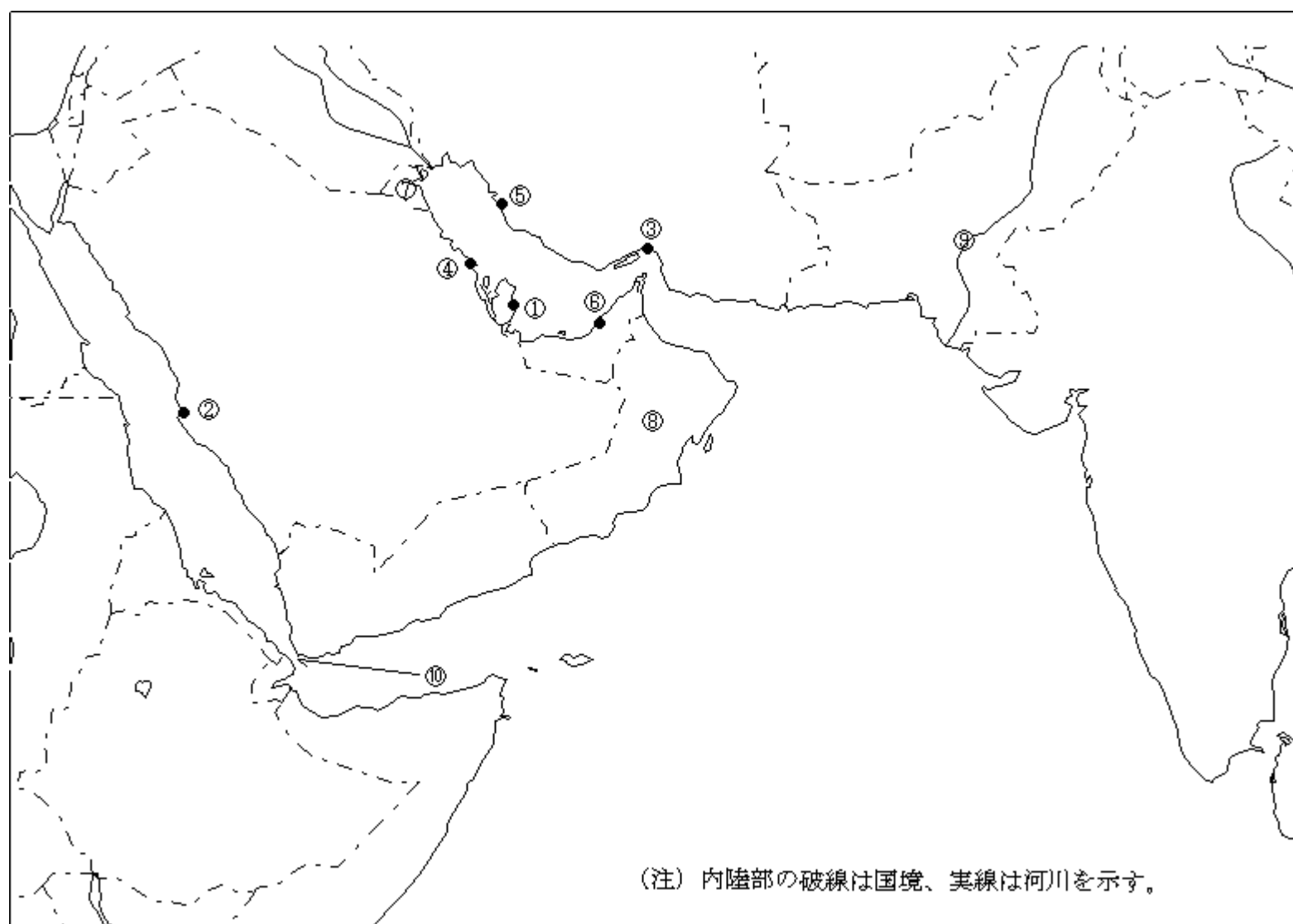
40問 1時間

問 下図により、下表の左欄の事項のそれぞれに該当するものの名称を右欄の語群から一つ選び、その番号で答えよ。



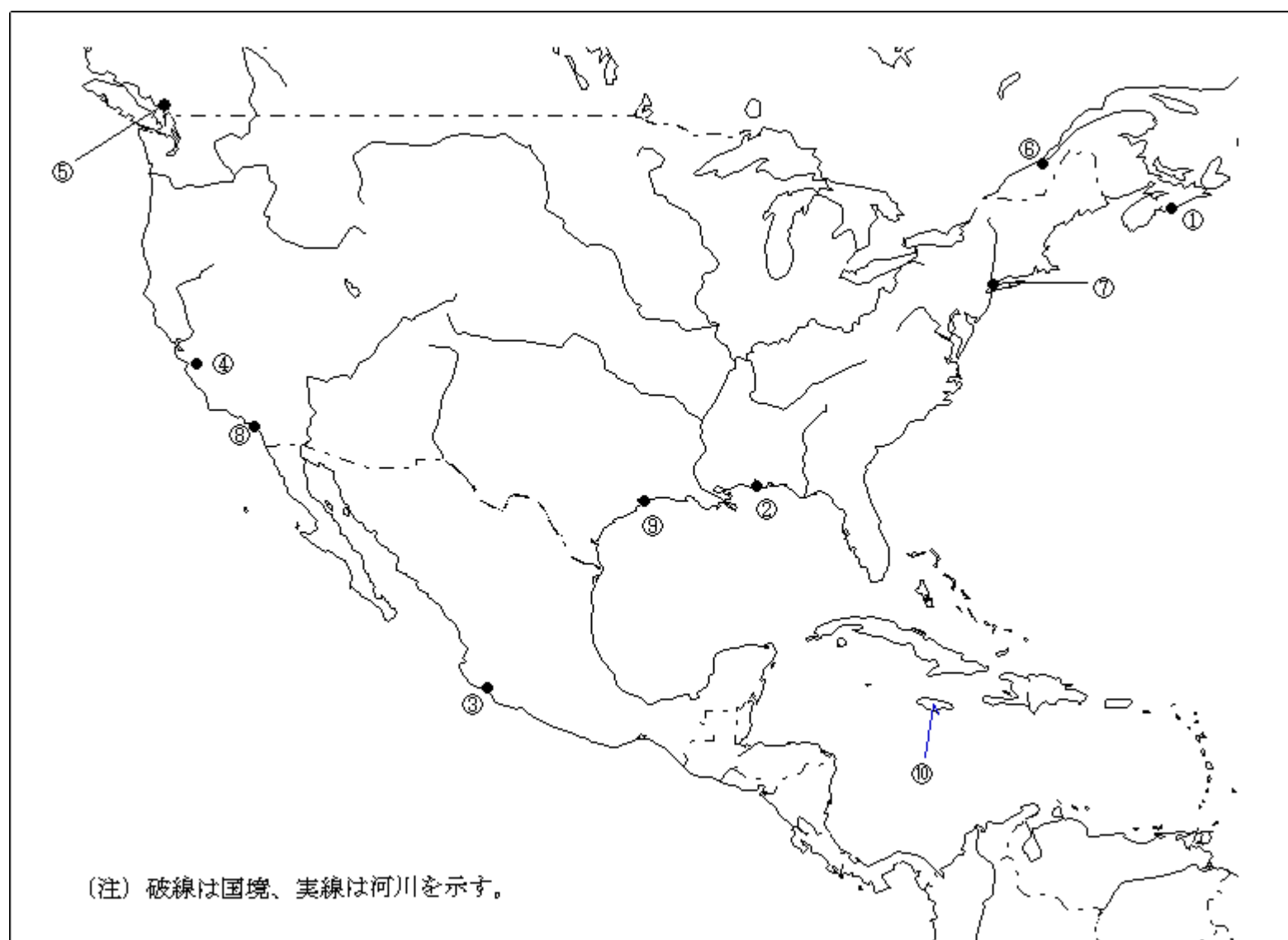
事 項	語 群		
[1] 印の ① に位置する海上保安庁の海岸局の名称	1 釧路(萩ケ岡)	2 小樽(積丹)	3 小樽(大野)
[2] 印の ② に位置する海上保安庁の海岸局の名称	4 釧路(昆布森)	5 釧路(紋別)	
[3] 印の ③ に位置する海上保安庁の無線標識局の名称	1 舞鶴(越前)	2 田辺	3 神戸(津名)
[4] 印の ④ に位置する海上保安庁の無線航行陸上局(レーダーによるもの)の名称	4 名古屋(松尾)	5 舞鶴(枕木山)	
[5] 印の ⑤ に位置する海上保安庁の無線航行陸上局(ディファレンシャルGPSによるもの)の名称	1 猿山岬	2 飛島	3 弾埼
[6] 印の ⑥ に位置する海上保安庁の無線航行陸上局(ディファレンシャルGPSによるもの)の名称	4 禄剛埼	5 大王埼	
[7] 印の ⑦ に位置する開港名	1 江崎	2 松原	3 青ノ山
[8] 印の ⑧ に位置する開港名	4 浦安	5 津島	
[9] 印の ⑨ の半島名	1 宗谷岬	2 網走	3 尻屋埼
[10] 印の ⑩ の海峡又は水道名	4 松前	5 釧路埼	
	1 宮古島	2 慶佐次	3 若宮
	4 都井岬	5 吐喝喇中之島	
	1 清水	2 田子の浦	3 御前崎
	4 衣浦	5 蒲郡	
	1 佐世保	2 唐津	3 細島
	4 長崎	5 三角	
	1 男鹿半島	2 下北半島	3 松前半島
	4 能登半島	5 牡鹿半島	
	1 豊後水道	2 大隈海峡	3 対馬海峡
	4 関門海峡	5 豊予海峡	

問 下図により、下表の左欄の事項のそれぞれに該当するものの名称を右欄の語群から一つ選び、その番号で答えよ。



事 項	語 群		
[11] 印の に位置する公衆通信業務を取り扱う海岸局の名称	1 Doha Radio 4 Muscat Radio	2 Basrah Control Radio 5 Kuwait Radio	3 Bahrain Radio
[12] 印の に位置する公衆通信業務を取り扱う海岸局の名称	1 Aden Radio 4 Jeddah Radio	2 Aqaba Radio 5 Port Sudan Radio	3 Assab Radio
[13] 印の に位置する公衆通信業務を取り扱う海岸局の名称	1 Chahbahar Radio 4 Khomeini Radio	2 Abbas Radio 5 Muscat Radio	3 Bushehr Radio
[14] 印の に位置する我が国の船舶の寄港地の名称	1 Bahrain 4 Basrah	2 Doha 5 Ras Tanura	3 Kuwait
[15] 印の に位置する我が国の船舶の寄港地の名称	1 Abu Dhabi 4 Abadan	2 Bushehr 5 Dubayy	3 Ras Tanura
[16] 印の に位置する我が国の船舶の寄港地の名称	1 Abu Dhabi 4 Bahrain	2 Muscat 5 Kuwait	3 Aden
[17] の国名	1 State of Qatar 3 State of Kuwait 5 Kingdom of Bahrain	2 Republic of Yemen 4 Hashemite Kingdom of Jordan	
[18] の国名	1 United Arab Emirates 3 Hashemite Kingdom of Jordan 5 Kingdom of Saudi Arabia	2 Republic of Yemen 4 Sultanate of Oman	
[19] の河川名	1 Chao Phraya 3 Indus 5 Mekong	2 Tigris-Euphrates 4 Ayeyarwady	
[20] の海峡名	1 Strait of Otranto 3 Strait of Hormuz 5 Bab al Mandab (Mandab)	2 Palk Strait 4 Bosphorus	

問 下図により、下表の左欄の事項のそれぞれに該当するものの名称を右欄の語群から一つ選び、その番号で答えよ。



事 項	語 群		
[21] 印の に位置する公衆通信業務を取り扱う海岸局の名称	1 Sydney Coast Guard Radio	2 Tuckerton, New Jersey Radio	
	3 S. John's Coast Guard Radio	4 Tors Cove Radio	
	5 Halifax Coast Guard Radio		
[22] 印の に位置する公衆通信業務を取り扱う海岸局の名称	1 Veracruz, Veracruz Radio	2 Jeffersonville, Indiana Radio	
	3 Delcambre, Louisiana Radio	4 Mobile, Alabama Radio	
	5 Tuckerton, New Jersey Radio		
[23] 印の に位置する公衆通信業務を取り扱う海岸局の名称	1 Manzanillo, Colima Radio	2 Ensenada, Baja California Radio	
	3 Acapulco, Guerrero Radio	4 Mazatlan, Sinaloa Radio	
	5 La Paz, Baja California Radio		
[24] 印の に位置する海岸地球局の名称	1 Staten Island	2 Niles Canyon	3 Santa Paula
	4 Southbury		
[25] 印の に位置する我が国の船舶の寄港地の名称	1 Vancouver	2 Seattle	3 Eureka
	4 Oakland	5 Portland	
[26] 印の に位置する我が国の船舶の寄港地の名称	1 Toronto	2 Montreal	3 Quebec
	4 St. John's	5 Port Arthur	
[27] 印の に位置する我が国の船舶の寄港地の名称	1 Baltimore	2 New York	3 Boston
	4 Norfolk	5 Charleston	
[28] 印の に位置する我が国の船舶の寄港地の名称	1 San Francisco	2 Portland	3 Oakland
	4 Tacoma	5 Los Angeles	
[29] 印の に位置する我が国の船舶の寄港地の名称	1 Brownsville	2 Tampa	3 Houston_
	4 New Orleans	5 Jacksonville	
[30] の国名	1 Republic of Haiti	2 Dominican Republic	3 Republic of Cuba
	4 Jamaica	5 Commonwealth of the Bahamas	

問 次の問いに答えよ。

- 1 次表のA群のそれぞれの都市は、我が国の船舶の寄港地であるが、それぞれの所属国名をB群から一つ選び、その番号で答えよ。

A 群	B 群	
[31] Surabaya	1 Republic of Indonesia 3 Commonwealth of Australia 5 Republic of the Philippines	2 Papua New Guinea 4 Malaysia
[32] Cairns	1 Independent State of Samoa 3 Papua New Guinea 5 New Zealand	2 Commonwealth of Australia 4 Republic of the Marshall Islands
[33] Rotterdam	1 Kingdom of the Netherlands 3 French Republic 5 United Kingdom of Great Britain and Northern Ireland	2 Kingdom of Belgium 4 Federal Republic of Germany
[34] Tripoli	1 Kingdom of Morocco 3 Republic of Tunisia 5 Great Socialist People's Libyan Arab Jamahiriya	2 People's Democratic Republic of Algeria 4 Republic of Senegal
[35] Callao	1 Republic of Chile 3 Republic of Peru 5 Republic of Colombia	2 Republic of Ecuador 4 Bolivarian Republic of Venezuela

- 2 次表の左欄のそれぞれの事項に該当するものの名称を右欄の語群から一つ選び、その番号で答えよ。

事 項	語 群
[36] アフリカ東部にある赤道直下の国。首都はナイロビ。1895年英国の保護領となったが1963年に独立した。主要農産物はコーヒー、茶、サイザル麻等で、主要貿易港であるモンバサから輸出される。	1 United Republic of Tanzania 2 Federal Democratic Republic of Ethiopia 3 Republic of Mozambique 4 Republic of Kenya 5 Somali Democratic Republic
[37] 中国南東部、チュー川（珠江）の三角洲上にある広東省の省都。華南地方最大の貿易港を擁し、商品見本市等が開催される。機械、紡績、食品などの工業が発達している。	1 Wenzhou（温州） 2 Qingdao（青島） 3 Xiamen（廈門） 4 Guangzhou（広州） 5 Hong Kong（香港）
[38] カリマンタン（ボルネオ）島北西部の王国。1984年英国から独立。首都はバンドルスリプガワン（Bandar Seri Begawan）。石油、天然ガスが豊富に産出され、我が国へも輸出している。また、ゴム、サゴヤシの栽培も盛ん。	1 Brunei Darussalam 2 Malaysia 3 The Democratic Republic of Timor-Leste 4 Republic of Maldives 5 Republic of Indonesia
[39] ヨーロッパ大陸とスカンジナビア半島に囲まれた地中海。湾奥はボスニア湾とフィンランド湾に分かれている。また、カテガット海峡とスカゲラック海峡により北海につながっている。	1 Ionian Sea 2 Tyrrhenian Sea 3 Norwegian Sea 4 Adriatic Sea 5 Baltic Sea
[40] 五大湖と大西洋を結ぶ水路。1959年、アメリカ合衆国とカナダの共同事業として完成。この水路により1万トン級の外洋船舶が五大湖沿岸の諸都市まで航行可能となった。	1 Kiel Canal 2 St. Lawrence Sea Way 3 Volga-Don 4 Chesapeake and Delaware 5 New York State Barge